


Государственное автономное профессиональное
образовательное учреждение
«Мамадышский политехнический колледж»
(ГАПОУ «Мамадышский ПК»)

«Утверждаю»
Зам. директора по ТО
Файзреева В.В.
 «28» сентября 2020г

Фонд оценочных средств
для проведения текущего контроля и промежуточной аттестации
по учебной дисциплине
ОП.01 Инженерная графика.
для специальности
23.02.03 Техническое обслуживание и ремонт
автомобильного транспорта.

2020г.

Комплект контрольно-оценочных средств разработан на основе рабочей программой учебной дисциплины ОП.01 Инженерная графика в соответствии Федерального государственного образовательного стандарта среднего профессионального образования по специальности 23.02.03 Техническое обслуживание и ремонт автомобильного транспорта. приказ Министерства образования и науки от 22 апреля 2014 года №383 (Зарегистрировано в Минюсте России 28 апреля 2014года № 17041) .

Обсуждена и одобрена на заседании

Протокол №1

Предметно- цикловой комиссии :

«28» августа 2020г.

общепрофессиональных дисциплин

Председатель ПЦК



В.В. Мирзаянова

Разработчик: Хафизова Г.Ф. преподаватель.

СОДЕРЖАНИЕ

1.	Паспорт комплекта контрольно-оценочных средств.....	стр. 4
2.	Результаты освоения учебной дисциплины, подлежащие проверке	7
3.	Оценка освоения учебной дисциплины.....	10
3.1	Формы и методы оценивания.....	10
3.2	Типовые задания для оценки освоения учебной дисциплины	15
	Приложение 1 задания для выполнения практических работ	56

1. Паспорт комплекта контрольно-оценочных средств

В результате освоения учебной дисциплины ОП 01 Инженерная графика, обучающийся должен обладать предусмотренными ФГОС по специальности ППС3 23.02.03 Техническое обслуживание и ремонт автомобильного транспорта следующими умениями и знаниями, которые формируют общую и профессиональную компетенции:

Код ПК, ОК	Умения	Знания
ПК 1.1-1.6 ПК 3.1-3.6 ПК 4.2 ПК 4.3 ОК 01 ОК 02 ОК 09	Читать чертежи, оформлять проектно-конструкторскую, технологическую и другую техническую документацию в соответствии с действующей нормативной базой; выполнять изображения, разрезы и сечения на чертежах; выполнять детализацию сборочного чертежа; решать графические задачи.	Основных правил построения чертежей и схем; способов графического представления пространственных образов; возможностей пакетов прикладных программ компьютерной графики в профессиональной деятельности; основных положений конструкторской, технологической и другой нормативной документации; основ строительной графики

2. Результаты освоения учебной дисциплины, подлежащие проверке.

Перечень профессиональных и общих компетенций, формируемых при освоении программы учебной дисциплины «Инженерная графика».

Код	Наименование результата обучения
ПК 1.2.	Осуществлять технический контроль при хранении, эксплуатации, техническом обслуживании и ремонте автотранспортных средств.
ПК 1.3.	Разрабатывать технологические процессы ремонта узлов и деталей.
ПК 2.3.	Организовывать безопасное ведение работ при техническом обслуживании и ремонте автотранспорта.
ОК 1.	Понимать сущность и социальную значимость своей будущей профессии, проявлять к ней устойчивый интерес.
ОК 2.	Организовывать собственную деятельность, выбирать типовые методы и способы выполнения профессиональных задач, оценивать эффективность и качество.
ОК 3.	Принимать решения в стандартных и нестандартных ситуациях и нести за них ответственность
ОК 4.	Осуществлять поиск и использование информации, необходимой для эффективного осуществления профессиональных задач, профессионального и личностного развития.
ОК 5.	Использовать информационно-коммуникационные технологии в профессиональной деятельности.
ОК 6.	Работать в коллективе и команде, обеспечивать ее сплочение, эффективно общаться с коллегами, руководством, потребителями.
ОК 7.	Брать на себя ответственность за работу членов команды (подчиненных), результат выполнения заданий.
ОК 8.	Самостоятельно определять задачи профессионального и личностного развития, заниматься самообразованием, осознанно планировать повышение квалификации.
ОК 8.	Самостоятельно определять задачи профессионального и личностного развития, заниматься самообразованием, осознанно планировать повышение квалификации.
ОК 9.	Ориентироваться в условиях частой смены технологий в профессиональной деятельности.

ОК 10.	Выполнять воинскую обязанность, в том числе с применением полученных профессиональных знаний (для юношей).
	Формой промежуточной аттестации по учебной дисциплине является <i>дифференцированный зачет.</i>

Результаты обучения: умения, знания и общие компетенции	Показатели оценки результата	Форма контроля и оценивания
Уметь:		
<p>У 1. Читать чертежи, оформлять проектно-конструкторскую, технологическую и другую техническую документацию в соответствии с действующей нормативной базой;</p> <p>ОК 2 Выбирать типовые методы и способы выполнения профессиональных задач. Оценивать их эффективность и качество</p> <p>ОК 8. Самостоятельно определять задачи профессионального и личностного развития, заниматься самообразованием, осознанно планировать повышение квалификации.</p>	<p>Соблюдение правил выполнения конструкторской и технологической документации в соответствии с ГОСТ 2.301-68, ГОСТ 2.104-68, ГОСТ2.302-68, ГОСТ2.303-68 и др.</p> <p>Качественное составление технической и технологической документации</p>	<p>Практические занятия, индивидуальные творческие задания, текущий контроль (на каждом занятии и этапе обучения), контрольная работа, зачет.</p>
<p>У2. Выполнять изображения, разрезы и сечения на чертежах;</p> <p>ОК 2. Организовывать собственную деятельность, выбирать типовые методы и способы выполнения профессиональных задач, оценивать их эффективность и качество.</p> <p>ОК 8. Самостоятельно определять задачи профессионального и личностного развития, заниматься самообразованием, осознанно планировать повышение квалификации.</p>	<p>Применение знаний о разрезах и сечениях (ГОСТ 2.305-68 , ГОСТ 2.306-68) при чтении и составлении чертежей в процессе профессиональной деятельности.</p> <p>Обоснованный выбор определения количества изображений на чертеже.</p>	<p>Практические занятия, индивидуальные творческие задания, текущий контроль (на каждом занятии и этапе обучения), контрольная работа, зачет.</p>
<p>У 3. Выполнять детализирование сборочного чертежа;</p> <p>ОК 2. Организовывать собственную деятельность, выбирать типовые методы и способы выполнения профессиональных задач, оценивать их эффективность и качество.</p> <p>ОК 8. Самостоятельно определять задачи профессионального и личностного развития, заниматься самообразованием, осознанно планировать повышение квалификации.</p>	<p>Применение сведений о детализировании при выполнении ремонтных работ и работ по техническому обслуживанию и ремонту автомобилей.</p> <p>Обоснованный выбор объектов для детализирования, количества изображений детали.</p> <p>Грамотное оформление рабочих чертежей деталей в соответствии с ГОСТ 2.109-73</p>	<p>текущий контроль, контрольная работа, зачет.</p>

<p>У4. Решать графические задачи;</p> <p>ОК 2. Организовывать собственную деятельность, выбирать типовые методы и способы выполнения профессиональных задач, оценивать их эффективность и качество.</p> <p>ОК 8. Самостоятельно определять задачи профессионального и личностного развития, заниматься самообразованием, осознанно планировать повышение квалификации.</p>	<p>Дифференцировать и выбирать методы решения графических задач.</p> <p>Применение методов и приемов проекционного черчения (основ начертательной геометрии) при решении графических задач.</p> <p>Умение выполнять технический рисунок.</p>	
Знать:		
3.1. Основные правила построения чертежей и схем;	Демонстрация знаний о правилах построения чертежей и схем в профессиональной деятельности	текущий контроль, индивидуальные творческие задания, контрольная работа, зачет.
3.2. Способы графического представления пространственных образов;	Владение информацией об аксонометрических проекциях, правилах выполнения технического рисунка	практические занятия, индивидуальные творческие задания, текущий контроль контрольная работа , зачет.
3.3. Основные положения конструкторской, технологической и другой нормативной документации;	Умение применять знания о видах изделий и конструкторских документов при решении графических задач, выполнении выпускной квалификационной работы	практические занятия, индивидуальные творческие задания, текущий контроль контрольная работа , зачет.
3.4. Основы строительной графики	Применение знаний строительного черчения при выполнении выпускной квалификационной работы	практические занятия, текущий контроль контрольная работа, зачет.

Оценка освоения учебной дисциплины:

3.1. Формы и методы оценивания

Предметом оценки служат умения и знания, предусмотренные ФГОС по дисциплине ОП01 Инженерная графика, направленные на формирование общих и профессиональных компетенций.

Элемент учебной дисциплины	Формы и методы контроля			
	Текущий контроль		Итоговая аттестация	
	Форма контроля	Проверяемые ОК, У, З	Форма контроля	Проверяемые ОК, У, З
Раздел 1. Общие правила оформления чертежей			<i>зачет</i>	У1 3 1, 32,33 ОК2.ОК8, ОК10
Тема 1. Общие правила оформления чертежей.	<i>Текущий контроль Самостоятельная работа Тестирование. Практическая работа «Оформление чертежа», Выполнение линии чертежа.</i>	У1 3 1, 32,33 ОК2.ОК8, ОК10		
Тема 2. Чертежный шрифт и выполнение надписей на чертежах	<i>Текущий контроль Самостоятельная работа Тестирование. Практическая работа «Выполнение чертежных шрифтов»</i>	У1 3 1, 32 ОК2.ОК8, ОК10		
Тема 3. Основные правила нанесения размеров	<i>Текущий контроль Самостоятельная работа Тестирование. Практическая работа «Правила нанесения размеров на чертеже детали»</i>	У1 3 1, 32 ОК2.ОК8, ОК10		
Тема 4. Геометрические построения и приемы вычерчивания контуров технических деталей	<i>Текущий контроль Самостоятельная работа Практическая работа «Выполнение геометрических построений»; графическое построение сопряжений</i>	У1,У4 3 1, 32,33 ОК2.ОК8, ОК1		
Раздел 2. Методы и приемы проекционного черчения (основы начертательной геометрии). Техническое рисование.	<i>Текущий контроль Самостоятельная работа Практическая работа: Методы проецирования. Проецирование на 2 взаимно перпендикулярные плоскости. Проецирование на три взаимно перпендикулярные плоскости.</i>	У1 3 1, 32 ОК1 ОК2.ОК8, ОК10	<i>зачет</i>	У1 3 1, 32,33 ОК2.ОК8, ОК10

Тема 2.1. Проецирование точки. Комплексный чертеж точки	<i>Текущий контроль</i> <i>Самостоятельная работа</i> <i>Практическая работа «Комплексный чертеж точки»</i>	<i>У1</i> <i>3 1, 32</i> <i>OK2.OK8,</i> <i>OK10</i>		
Тема 2.2. Проецирование отрезка прямой линии	<i>Устный опрос</i> <i>Самостоятельная работа</i> <i>Практическая работа «Комплексный чертеж отрезка прямой»</i>	<i>У1,</i> <i>3 1, 32</i> <i>OK2.OK8 OK5</i>		
Тема 2.3. Проецирование плоскости	<i>Текущий контроль</i> <i>Самостоятельная работа</i> <i>Построение многогранников</i> <i>Взаимное пересечение многогранников.</i>	<i>У1</i> <i>3 1, 32</i> <i>OK2.OK8 OK5</i>		
Тема 2.4. Аксонметрические проекции	<i>Текущий контроль. Самостоятельная работа</i> <i>Практическая работа «Построение комплексного чертежа и аксонометрической проекции модели»,</i> <i>«Изометрические проекции плоских фигур»</i>	<i>У1</i> <i>3 1, 32 , 33</i> <i>OK2.OK3, OK8</i>	<i>У1,</i> <i>3 1, 32, 33</i> <i>OK2.OK8,</i> <i>OK3</i>	
Проецирование геометрических тел	<i>Практическая работа.</i> <i>ЛПЗ №11 Аксонометрические изображения плоских многоугольников.</i> <i>ЛПЗ №12 Построение аксонометрических проекции окружностей.</i> <i>ЛПЗ № 13 Изометрические проекции цилиндра, конуса и сферы.</i> <i>ЛПЗ № 14 «Изометрические проекции геометрических тел»</i>	<i>У1,</i> <i>3 1, 32</i> <i>OK2.OK8,</i> <i>OK10</i>		
Раздел 3. Сечения и разрезы.	<i>Основные правила выполнения чертежей.</i>		<i>зачет</i>	<i>У1, У2 У3.3 1,32, 33, OK2.OK8 OK5</i>
Тема. Основные правила выполнения чертежей.	<i>Текущий контроль</i> <i>Самостоятельная работа</i>	<i>У1, У2,3 1, 32, 33</i> <i>OK2.OK8, OK3</i>		
Сечения и разрезы.	<i>Текущий контроль</i> <i>Самостоятельная работа</i> <i>ЛПЗ №15 Построение сечений.</i> <i>ЛПЗ №16 Построение простых разрезов.</i> <i>ЛПЗ № 17 Построение третьей проекций по двум заданным.</i>	<i>У1, У2</i> <i>3 1, 32, 33</i> <i>OK2.OK8</i> <i>OK5</i>		
Раздел 4	<i>Текущий контроль. Тестирование</i>	<i>У1, У2</i>		

Резьба.	<i>Самостоятельная работа</i> <i>Практическая работа ЛПЗ №18 Графическое изображение разъёмных соединений.</i>	3 1, 32, 33 OK1, OK4, OK6, OK8		
Эскизы деталей. Рабочие чертежи и схемы.	<i>Текущий контроль</i> <i>Самостоятельная работа</i> <i>Практическая работа «Выполнение эскиза детали» .Тестирование</i>	У1, У2 3 1, 32 OK2.OK8		
Разъемные и неразъемные соединения деталей	<i>Текущий контроль</i> <i>Самостоятельная работа</i> <i>«Выполнение чертежей разъемных и неразъемных соединений деталей»</i>	У1, У2 3 1, 33 OK2.OK8		
Раздел 5 Чертежи общего вида и сборочные чертежи	<i>Текущий контроль</i> <i>Самостоятельная работа</i> <i>Практическая работа</i> ЛПЗ№19.Вычерчивание сборочного чертежа. ЛПЗ№20. Составление спецификации сборочного чертежа. .	У1, УК2, У3. 3 1, 33 OK1, OK2. OK6;7;8; ПК1.2, 1.3, 2.3		
Чтение и детализирование чертежей.	<i>Текущий контроль</i> <i>Самостоятельная работа</i> <i>Практическая работа</i> ЛПЗ№ 21.Детализирование	У1, У2 У3. 3 1, 32, 33, OK1, OK2. OK6;7;8; ПК1.2, 1.3, 2.3		
Схемы	<i>Текущий контроль</i> <i>Самостоятельная работа</i> <i>Практическая работа. ЛПЗ №22 Схемы.</i> Вычерчивание и чтение чертежей схем.	У1, У2 У3. 3 1, 32, 33, OK2.OK8 OK5		У1, У2, У3 3 4 OK2.OK8, OK5
	<i>Самостоятельная работа</i>	У1, У2 У3. 3 1, 32, 33, OK2.OK8 OK5		
Форма промежуточной аттестации - дифференцированный зачет.				

Задания для оценки освоения учебной дисциплины
Задания для оценки знаний (текущий контроль)

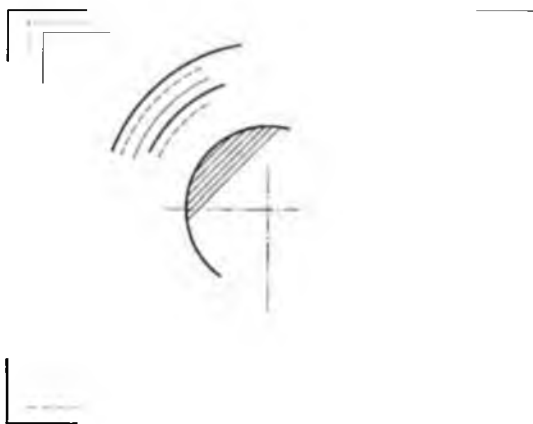
Тема 1.1. Основные сведения по оформлению чертежей
Тема 1.2. Чертежный шрифт и выполнение надписей на чертежах

Графическая работа №1

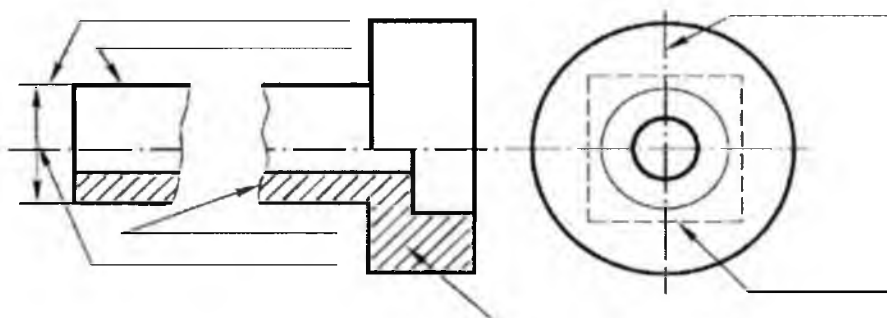
На формате А3 выполнить следующие задания:

- Закончить начатые линии чертежа
- Написать наименование линий выполненных на чертеже

1. Закончить все начатые линии чертежа



2. Написать наименование линий выполненных на чертеже



Шрифтом Б, №7 с наклоном выполнить буквы, цифры и шрифтом Б, №7 выполнить надпись

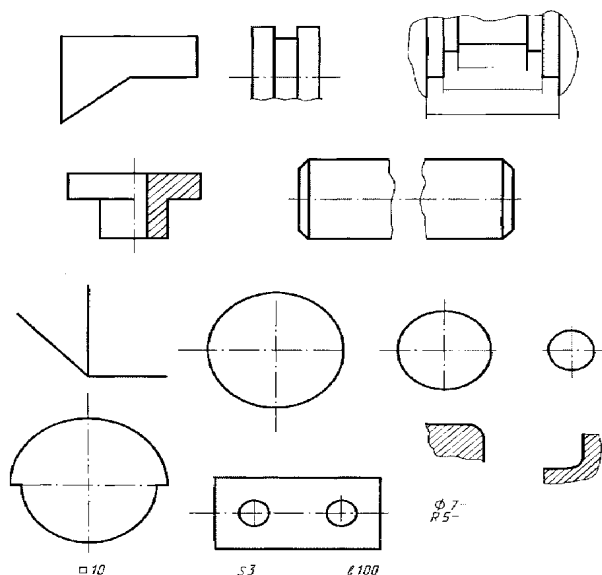
Аа Бб Вв Гг Дд Ее Жж
Зз Ии Йй Кк Лл Мм Нн
Оо Пп Рр Сс Тт Уу Фф
Хх Цц Чч Шш Щщ Ъь
Ыы Ьь Ээ Юю Яя
1234567890 3 №
R ∅ □ ▽ ∠ ° * ~ % ^

Чер. в

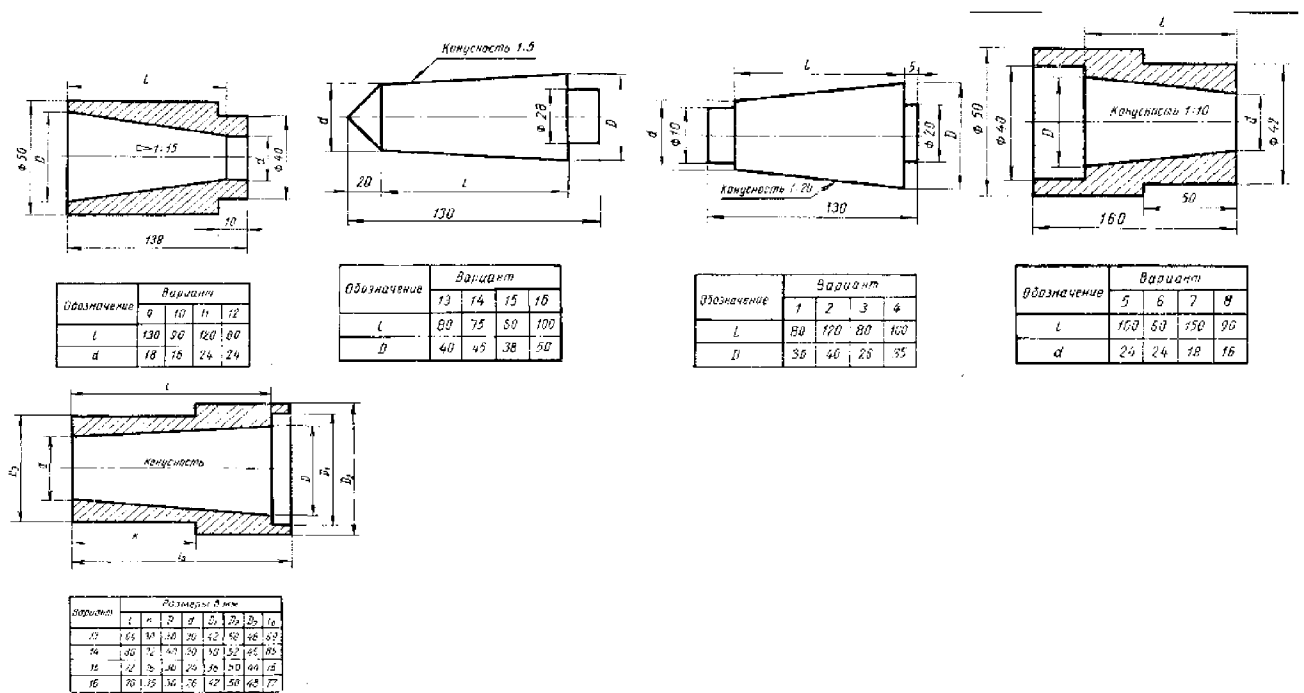
Основные правила нанесения размеров

№ варианта	Содержание текста, выполняемого стандартным шрифтом размера 7
1	<u>Чертеж детали</u> – документ, содержащий изображение детали и данные для ее изготовления и контроля (размеры, обозначения шероховатости поверхностей).
2	<u>Сборочный чертеж</u> содержит изображение изделия (сборочной единицы) и другие данные, необходимые для его изготовления (сборки) и контроля.
3	<u>Чертеж общего вида</u> определяет конструкцию изделия, взаимодействие его основных составных частей и поясняет принцип работы изделия.
4	<u>Габаритный чертеж</u> содержит упрощенное изображение изделия с габаритными, установочными и присоединительными размерами.
5	<u>Монтажный чертеж</u> содержит упрощенное изображение изделия и необходимые данные для установки при монтаже.
6	<u>Схема</u> – документ, на котором показаны в виде условных изображений или обозначений составные части изделия и связи между ними.
7	<u>Спецификация</u> – документ, определяющий состав сборочной единицы, комплекса или комплекта.
8	<u>Пояснительная записка</u> – документ, в котором описаны устройство и принцип действия изделия и дано обоснование принятого технического и технико-экономического решения.
9	<u>Технические условия</u> – документ, содержащий эксплуатационные показатели изделия и методы контроля его качества.
10	<u>Ремонтные документы</u> – документы, содержащие данные для выполнения ремонтных работ на специализированных предприятиях.

Графическая работа. Нанести размеры на выполненных чертежах в соответствии с ГОСТ 2.307-68.



1. Перечертить чертеж детали, определить диаметр и поставить размеры в соответствии с ГОСТ 2.307.68.



Геометрические построения и приемы вычерчивания контуров технических деталей

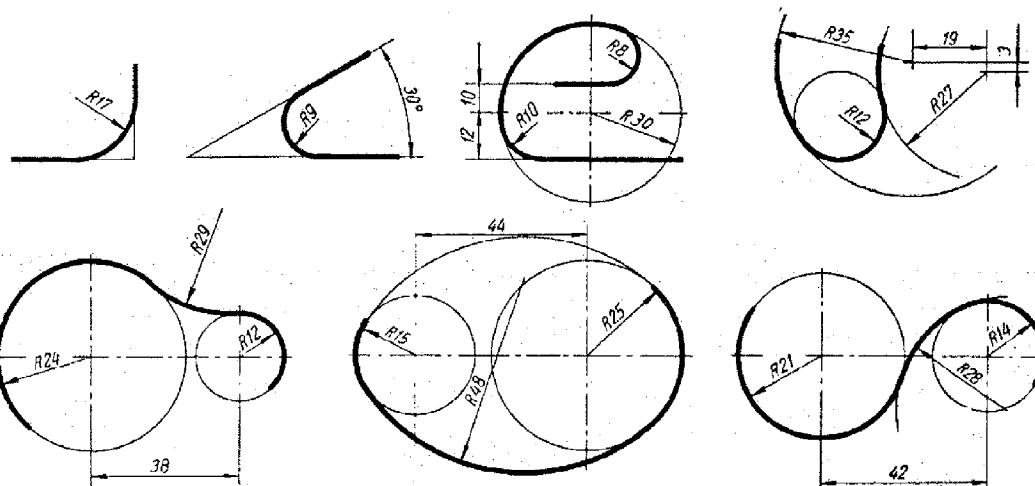
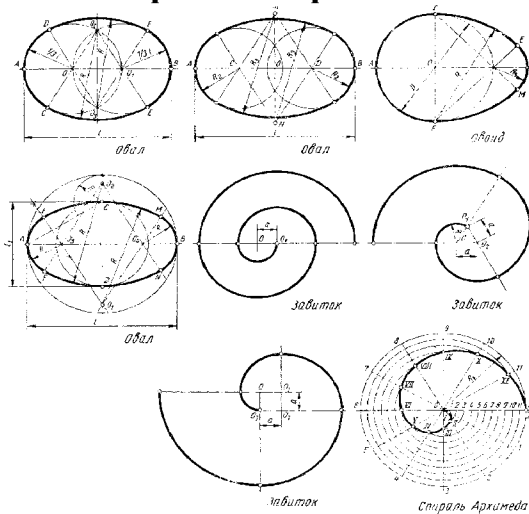
Графическая работа

1. Разделить окружности на равные части. Построение правильных многогранников.

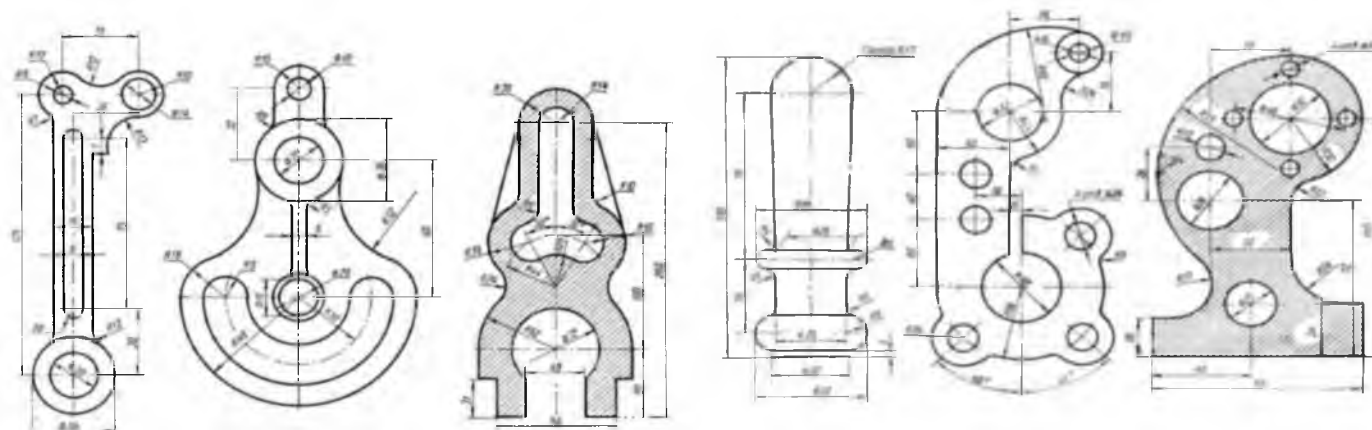
Графическая работа на построении сопряжений.

№ варианта	Размеры в мм						
	D	L	L ₁	R ₂	R ₃	R ₁	α
1	60	63	42	26	78	57	7
2	58	66	43	28	70	44	4
3	50	84	58	20	50	58	8
4	56	68	44	30	75	66	11
5	62	76	50	32	75	43	3
6	64	78	58	30	75	48	8
7	52	84	62	24	62	47	7
8	58	62	40	22	50	53	3
9	64	70	50	22	55	49	9
10	48	82	58	28	70	46	6
11	52	72	52	26	65	55	5
12	50	80	60	26	65	40	10
13	54	72	52	26	65	45	5
14	56	70	50	22	55	49	9
15	58	66	44	28	70	44	4

Примечание. Размер R получается при построении.



2. Вычертить по правилам построения сопряжения
3. Вычертить контуры очертания деталей по правилам сопряжений.



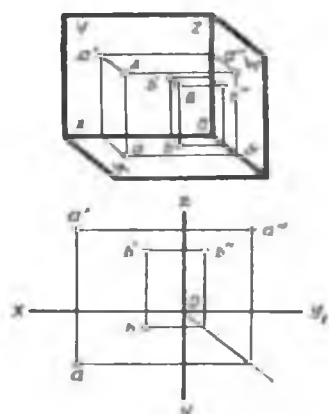
Методы и приемы проекционного черчения

(основы начертательной геометрии). Техническое рисование.

Тема 2.1. Проецирование точки. Комплексный чертеж точки

Графическая работа

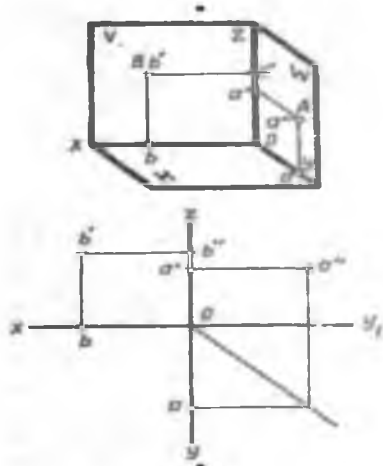
Построить наглядное изображение и комплексный чертеж точки относительно плоскостей проекций. Определить положение точек относительно плоскостей проекций



№ точки	Параметры					
	А			В		
	X	Y	Z	X	Y	Z
1	30	20	10	20	40	28
2	35	24	15	20	14	25
3	28	20	15	20	35	25
4	30	22	16	22	35	38
5	38	28	20	15	15	28
6	15	20	30	35	30	10
7	30	22	13	20	35	25
8	15	30	15	35	16	25
9	30	22	15	22	35	30
10	30	30	5	5	30	25
11	25	28	12	40	40	40
12	38	28	36	15	15	15
13	40	25	20	14	14	28
14	15	30	10	35	15	20
15	5	15	30	30	30	15
16	30	20	10	36	36	36
17	25	28	10	40	40	40
18	25	26	15	20	15	26
19	30	30	5	5	30	25
20	30	25	12	25	35	30
21	15	28	10	35	14	30
22	30	20	10	30	30	30
23	30	25	14	20	35	25
24	30	22	12	22	35	30
25	35	24	15	20	14	30
26	30	28	14	32	35	30
27	25	28	12	40	36	28
28	40	28	22	15	15	28
29	25	30	12	36	36	36
30	30	26	16	35	35	35

Построить наглядное изображение и комплексный чертеж точки относительно плоскостей проекций. Определить положение точек относительно плоскостей проекций.

1.



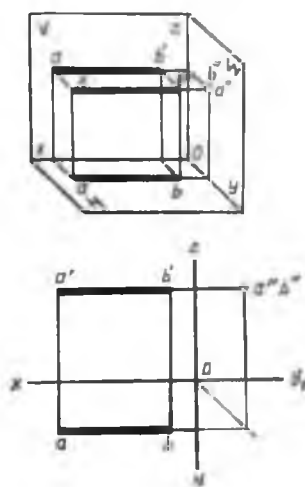
№ точки	Параметры					
	А			В		
	X	Y	Z	X	Y	Z
1	30	20	10	20	40	28
2	35	24	15	20	14	25
3	28	20	15	20	35	25
4	30	22	16	22	35	38
5	38	28	20	15	15	28
6	15	20	30	35	30	10
7	30	22	13	20	35	25
8	15	30	15	35	16	25
9	30	22	15	22	35	30
10	30	30	5	5	30	25
11	25	28	12	40	40	40
12	38	28	36	15	15	15
13	40	25	20	14	14	28
14	15	30	10	35	15	20
15	5	15	30	30	30	15
16	30	20	10	36	36	36
17	25	28	10	40	40	40
18	25	26	15	20	15	26
19	30	30	5	5	30	25
20	30	25	12	25	35	30
21	15	28	10	35	14	30
22	30	20	10	30	30	30
23	30	25	14	20	35	25
24	30	22	12	22	35	30
25	35	24	15	20	14	30
26	30	28	14	32	35	30
27	25	28	12	40	36	28
28	40	28	22	15	15	28
29	25	30	12	36	36	36
30	30	26	16	35	35	35

Проецирование отрезка прямой линии

Графическая работа

Проецирование прямой линии

1. По заданным координатам концов отрезка АВ построить его наглядное изображение и комплексный чертеж. Определить положение отрезка относительно плоскостей проекций.

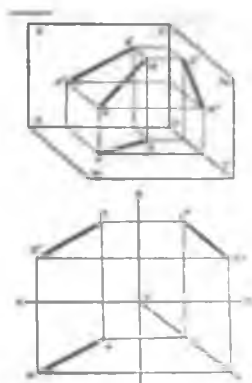


№ п/п	Координаты					
	А			В		
	X	Y	Z	X	Y	Z
1	50	20	15	10	20	15
2	30	10	25	30	40	25
3	35	30	5	35	30	40
4	40	25	35	0	25	35
5	32	5	25	32	45	25
6	40	40	25	4	40	25
7	35	30	40	35	30	0
8	45	24	15	10	24	15
9	30	0	35	30	0	35
10	33	5	30	33	44	30
11	25	30	12	25	30	45
12	50	25	35	15	25	35
13	45	30	25	0	30	25
14	32	30	10	32	30	45
15	32	10	34	32	42	34
16	40	12	25	40	45	25
17	33	5	30	33	45	30
18	50	20	15	10	20	15
19	40	40	25	4	40	25
20	30	0	35	30	0	35
21	33	5	30	33	45	30
22	35	30	5	35	30	40
23	37	30	40	37	30	0
24	45	30	25	0	30	25
25	40	40	25	4	40	25
26	25	30	12	25	30	45
27	42	12	25	42	45	25
28	34	5	30	34	45	30
29	30	0	35	30	0	35
30	32	0	35	32	42	35

Тема 2.3. Проецирование плоскости

Графическая работа

По заданным координатам концов отрезка АВ построить его наглядное изображение и комплексный чертеж. Определить положение отрезка относительно плоскостей проекций.



№ п/п	Координаты					
	А			В		
	X	Y	Z	X	Y	Z
1	40	10	10	10	20	30
2	40	5	20	20	9	35
3	37	30	5	5	5	25
4	41	0	0	10	30	30
5	35	0	30	9	30	5
6	43	15	15	13	35	40
7	39	35	0	8	10	35
8	43	5	12	35	35	0
9	40	5	40	0	25	0
10	42	20	5	12	10	35
11	45	10	10	15	35	40
12	35	5	35	13	20	5
13	35	35	0	5	5	35
14	45	30	20	15	10	40
15	44	10	40	14	35	5
16	35	35	35	10	10	0
17	42	12	10	10	40	40
18	40	35	0	5	10	35
19	35	32	5	5	5	25
20	40	35	35	10	10	0
21	45	5	14	35	35	35
22	35	0	5	5	5	35
23	45	30	20	10	10	40
24	40	35	35	10	10	0
25	40	40	5	5	10	35
26	50	10	10	15	40	40
27	50	40	10	10	10	40
28	45	10	35	15	35	5
29	41	5	10	30	30	30
30	50	5	10	10	50	40

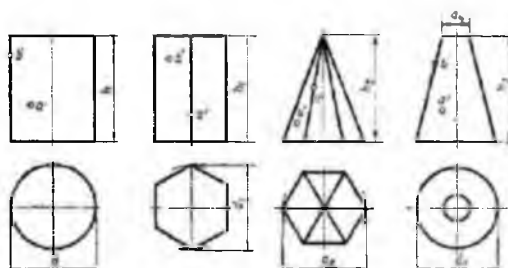
АксонOMETрические проекции. Графическая работа

Используя графическую работу выполнить изометрические проекции плоских

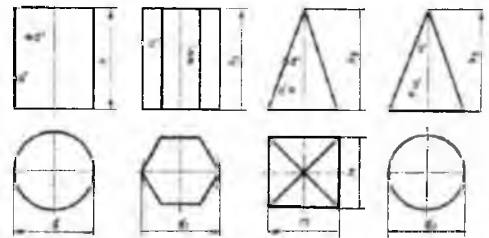
многогранников. Проецирование геометрических тел Графическая работа

Построить комплексные чертежи и изометрические проекции геометрических тел и точек принадлежащих этим телам.

Размеры, мм								
d	d ₁	d ₂	d ₃	d ₄	h	h ₁	h ₂	h ₃
50	48	50	40	14	55	65	60	60
40	40	52	38	14	55	60	50	60
45	45	50	40	14	60	65	60	50

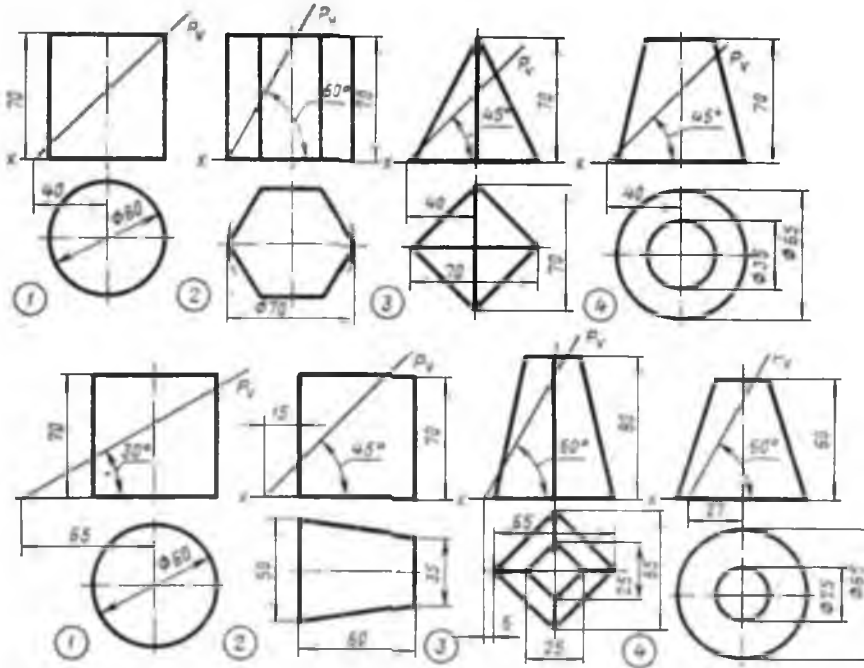


Размеры, мм							
d	d_1	d_2	m	h	h_1	h_2	h_3
45	45	45	45	50	60	60	70
50	45	45	45	60	70	70	60
50	40	45	36	60	70	50	65



Сечение геометрических тел плоскостями Графическая работа. Выполнить в трех проекциях чертеж усеченного тела.

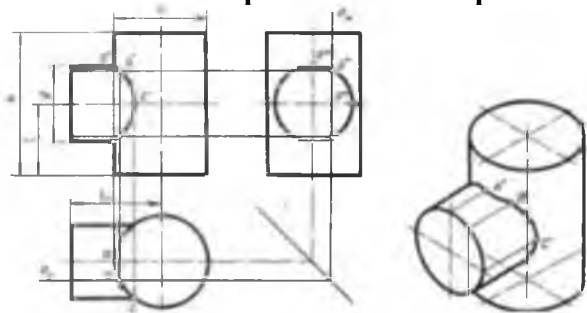
Выполнить изометрическую проекцию.



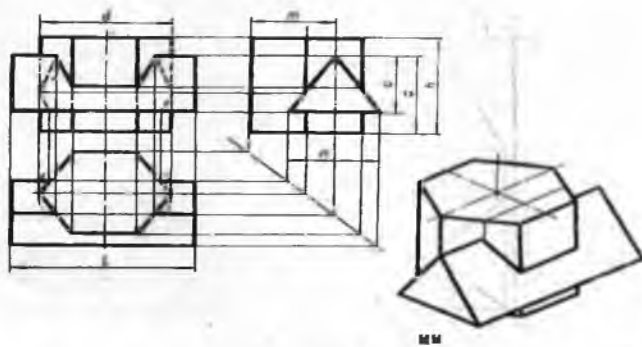
Тема Взаимное пересечение поверхностей тел

Графическая работа

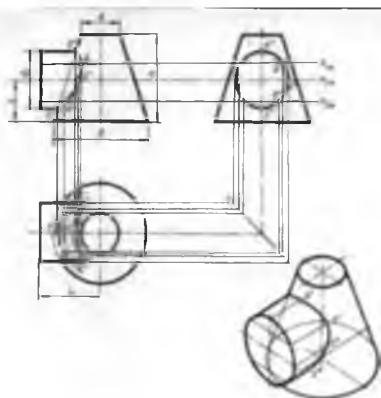
Построить линию пересечения цилиндров и аксонометрическую проекцию.



№ варианта	D	h	d	l	l_1	№ варианта	D	h	d	l	l_1
1	48	80	40	30	30	16	42	68	38	27	35
2	62	94	46	47	48	17	46	58	40	27	40
3	60	90	48	46	46	18	52	66	46	28	40
4	70	90	50	40	50	19	48	68	40	27	40
5	48	90	46	47	46	20	46	70	40	30	40
6	60	90	40	45	50	21	50	80	46	34	42
7	62	94	46	47	48	22	48	78	42	38	40
8	42	54	40	27	31	23	70	90	50	45	42
9	50	58	38	30	34	24	56	84	46	44	45
10	48	80	42	26	38	25	60	90	40	45	50
11	46	86	40	30	40	26	58	98	40	44	44
12	44	60	38	28	30	27	70	90	52	45	44
13	56	82	50	30	38	28	58	86	44	44	44
14	52	58	46	30	40	29	60	90	42	45	50
15	48	64	42	30	40	30	70	90	62	45	44



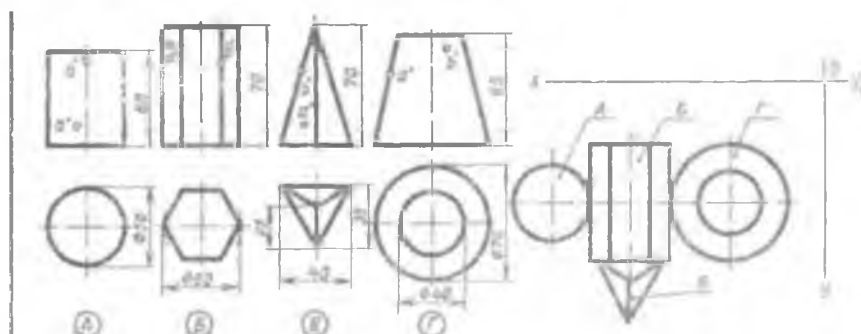
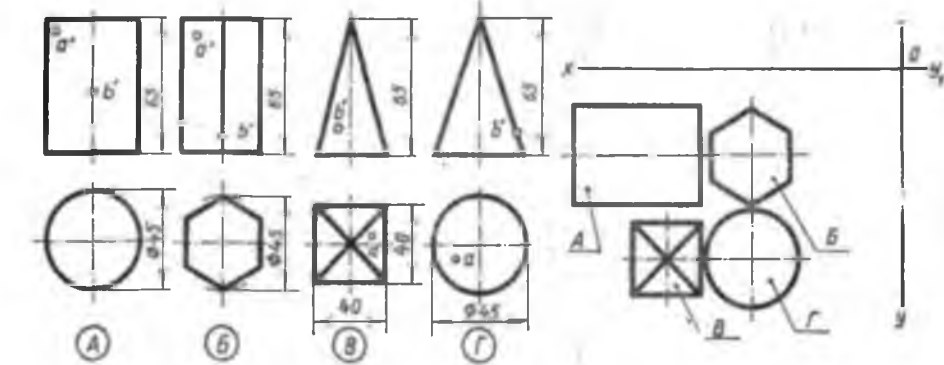
№ вари- анты	d	h	a	c	n	m	l	№ вари- анты	d	h	a	c	n	m	l	№ вари- анты	d	h	a	c	n	m	l
1	70	80	80	45	40	45	85	11	70	70	80	40	40	45	90	21	62	62	68	40	40	40	80
2	70	82	50	40	20	60	85	12	80	60	60	60	45	50	100	22	56	62	48	34	40	32	72
3	70	70	80	40	40	40	70	13	75	75	90	60	40	45	100	23	60	80	50	40	40	30	80
4	80	70	70	40	44	52	90	14	80	70	80	80	90	46	100	24	60	60	75	40	70	38	80
5	60	70	70	70	80	35	70	15	70	80	80	46	48	50	80	25	60	60	50	80	72	75	90
6	80	80	70	20	60	50	70	16	78	80	40	40	80	50	80	26	58	62	48	36	78	28	78
7	70	50	80	60	60	50	70	17	88	80	90	50	60	50	75	27	75	75	90	90	40	40	75
8	78	80	40	42	50	50	90	18	80	70	70	40	40	50	90	28	80	80	90	50	60	60	80
9	70	80	80	48	46	50	80	19	60	70	70	70	80	35	70	29	68	88	50	40	42	30	80
10	60	60	50	80	70	40	80	20	80	80	70	20	60	50	70	30	60	64	46	32	36	38	76

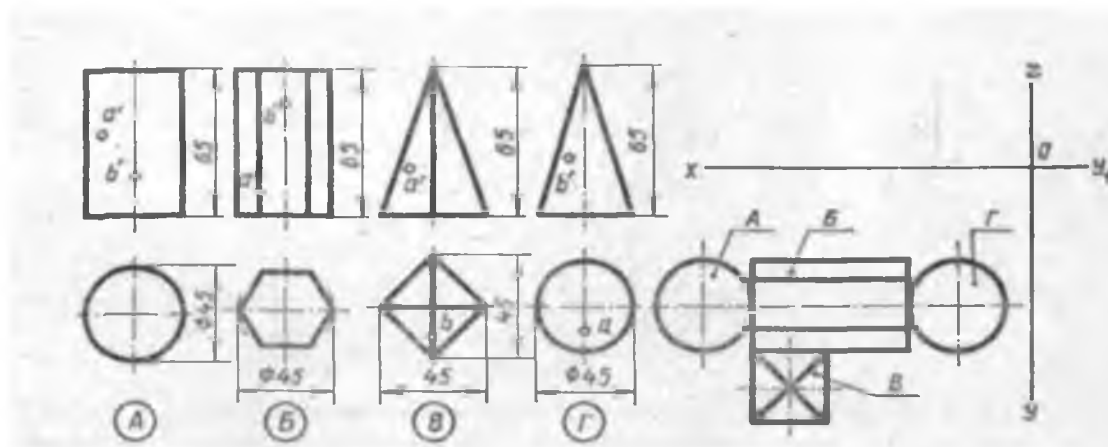
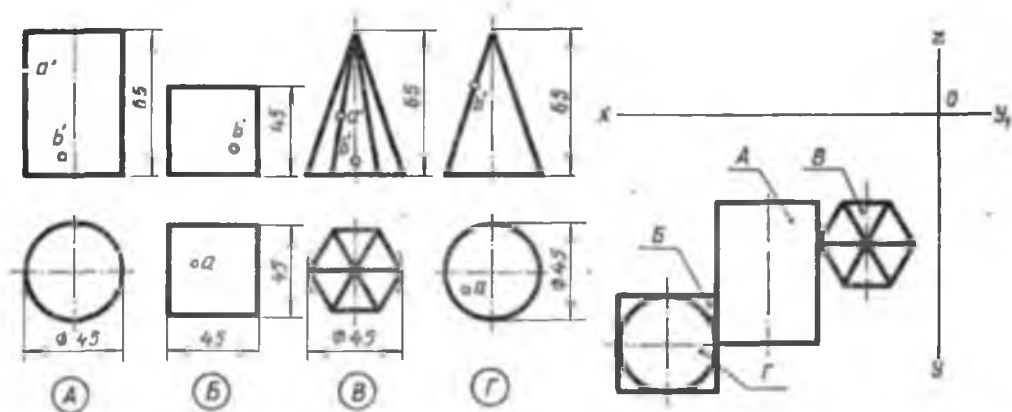


№ варианта	D	h	a	c	l	l_1	d_1	№ варианта	D	h	a	c	l	l_1	d_1
1	100	75	20	25	60	50	16	110	74	60	37	75	74	42	40
2	110	60	30	25	72	40	17	105	52	52	26	70	76	40	40
3	102	60	30	27	76	46	18	104	50	30	30	76	40	40	40
4	100	55	20	25	70	42	19	106	55	30	28	68	42	42	42
5	105	70	25	25	70	70	20	100	70	20	26	62	50	50	50
6	96	60	30	30	68	50	21	104	46	40	24	38	46	46	46
7	95	60	34	36	44	48	22	104	52	12	26	32	40	40	40
8	100	55	32	27	65	44	23	104	60	34	30	70	46	46	46
9	100	50	40	25	70	50	24	98	60	20	35	68	50	50	50
10	100	60	40	28	65	66	25	95	55	40	25	65	50	50	50
11	98	48	40	24	68	48	26	100	50	46	20	70	50	50	50
12	104	58	29	29	70	46	27	102	60	30	30	72	60	60	60
13	100	60	28	28	72	50	28	110	72	64	30	70	68	48	48
14	108	62	30	25	75	50	29	105	64	34	30	68	48	48	48
15	110	75	40	30	70	60	30	110	75	60	35	75	75	75	75

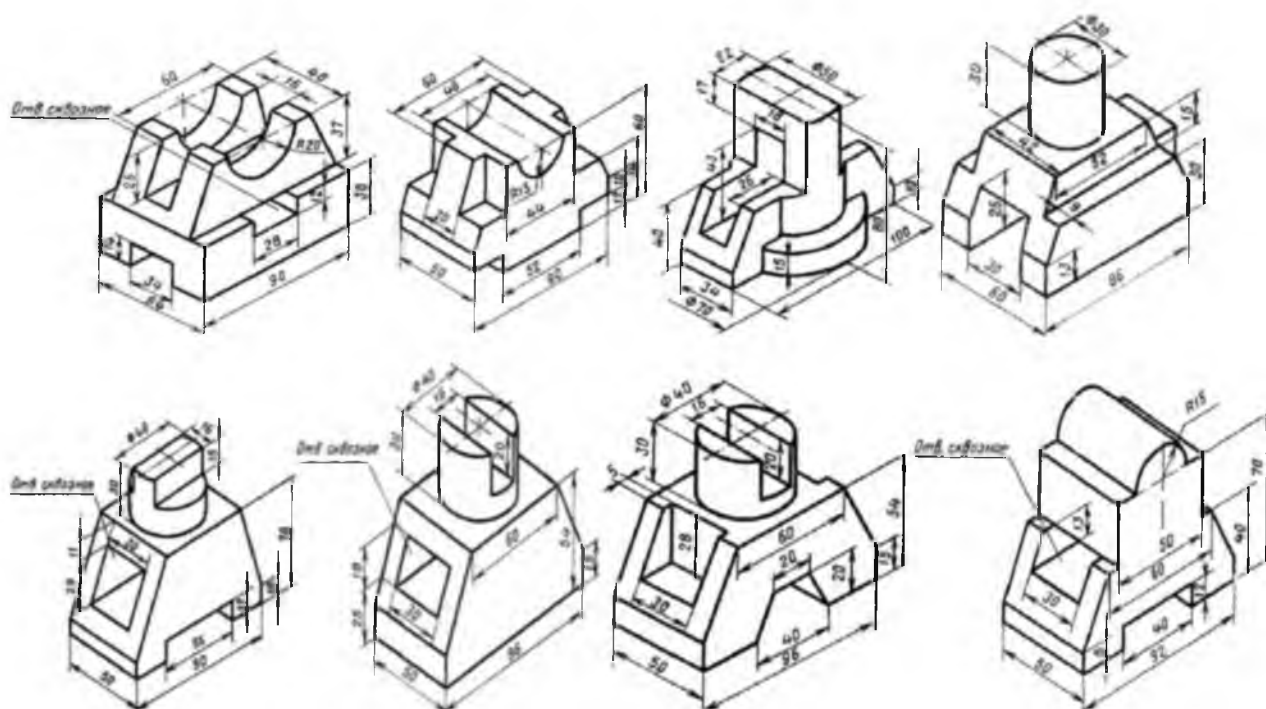
Построить в трех проекциях геометрические тела. Найти проекции точек, расположенных на их поверхности. Построить аксонометрические проекции.

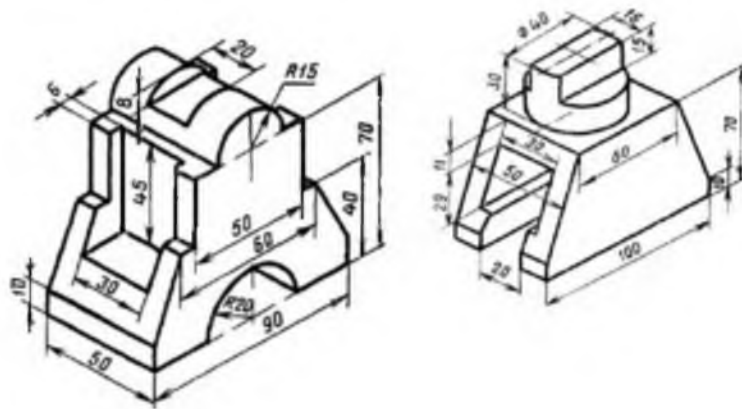
Построить в трех проекциях группу геометрических тел.





Выполнить комплексный чертеж модели . По комплексному чертежу модели выполнить изометрическую проекцию.

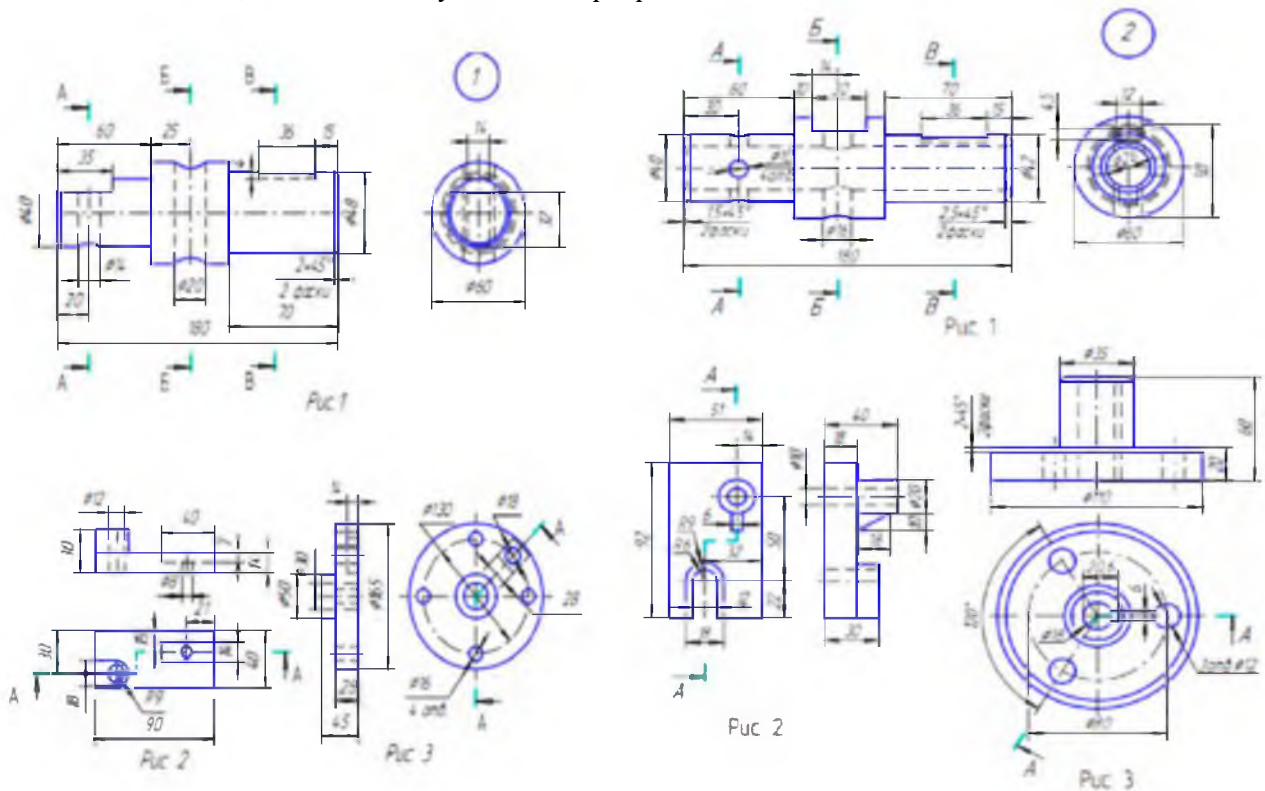




Изображения - виды, разрезы, сечения

Графическая работа №15, 16

Выполнить сечение, ломаный и ступенчатый разрез.



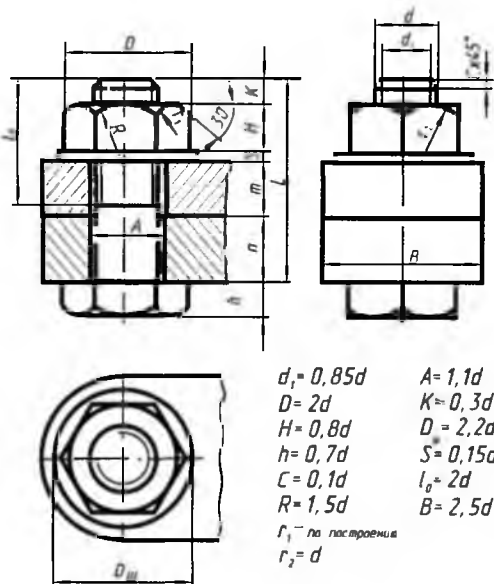
Эскизы деталей. Рабочие чертежи и схемы.

Графическая работа №18.

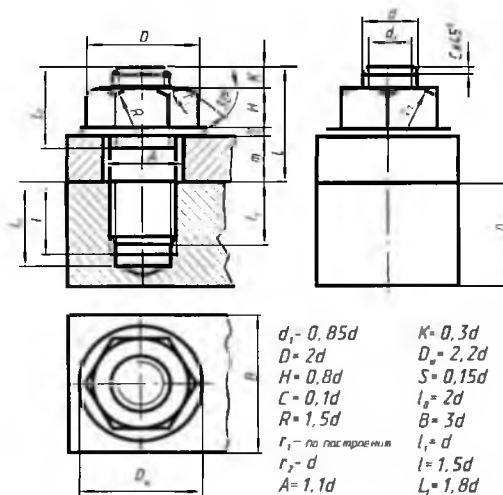
Тема 3.3. Резьба, резьбовые изделия

Выполнить чертеж соединения деталей болтом и шпилькой.

По заданным преподавателем размерам
 $d =$; $m =$; $n =$
 выполнить расчет размеров и чертеж соединения.
 Шаг резьбы $P =$
 Внутренний диаметр резьбы $d_1 =$
 Высота гайки $H =$
 Высота головки болта $h =$
 Размер фаски $C =$
 Радиусы фасок гайки и головки болта:
 $R =$; $r_1 =$; $r_2 =$
 Диаметр отверстия деталей $A =$
 Выступающая над гайкой часть болта $K =$
 Диаметр шайбы $D_{ш} =$
 Толщина шайбы $S =$
 Длина резьбовой части болта $l_0 =$
 Длина болта $L =$



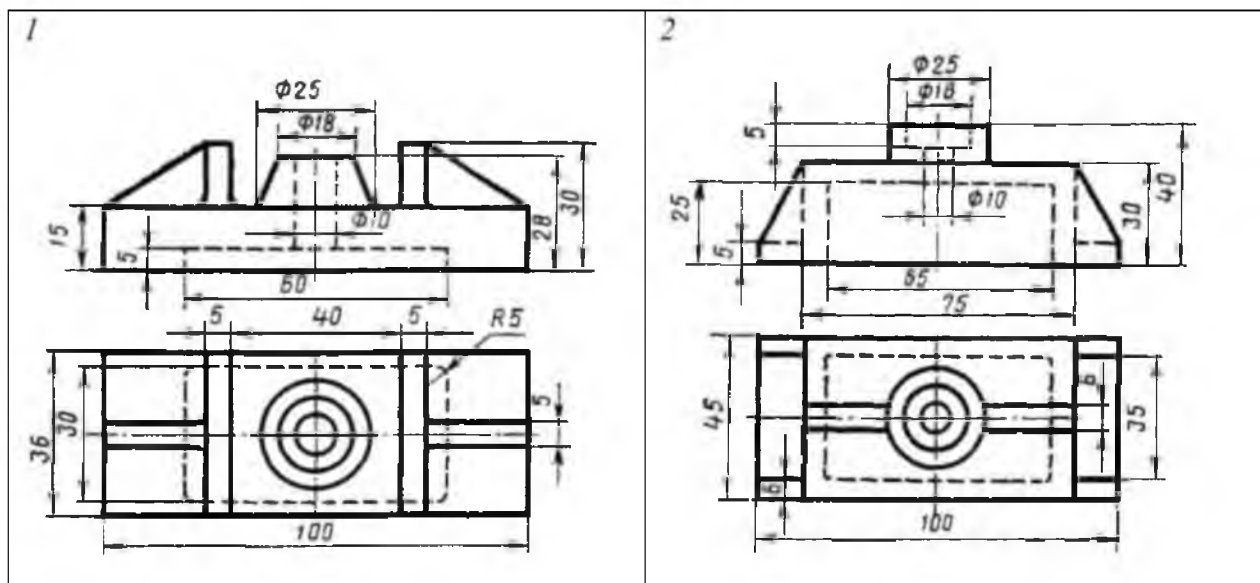
$d_1 = 0,85d$ $A = 1,1d$
 $D = 2d$ $K = 0,3d$
 $H = 0,8d$ $D_{ш} = 2,2d$
 $h = 0,7d$ $S = 0,15d$
 $C = 0,1d$ $l_0 = 2d$
 $R = 1,5d$ $B = 2,5d$
 r_1 — по построению
 $r_2 = d$



$d_1 = 0,85d$ $K = 0,3d$
 $D = 2d$ $D_{ш} = 2,2d$
 $H = 0,8d$ $S = 0,15d$
 $C = 0,1d$ $l_0 = 2d$
 $R = 1,5d$ $B = 3d$
 r_1 — по построению $l_1 = d$
 $r_2 = d$ $l = 1,5d$
 $A = 1,1d$ $L_1 = 1,8d$

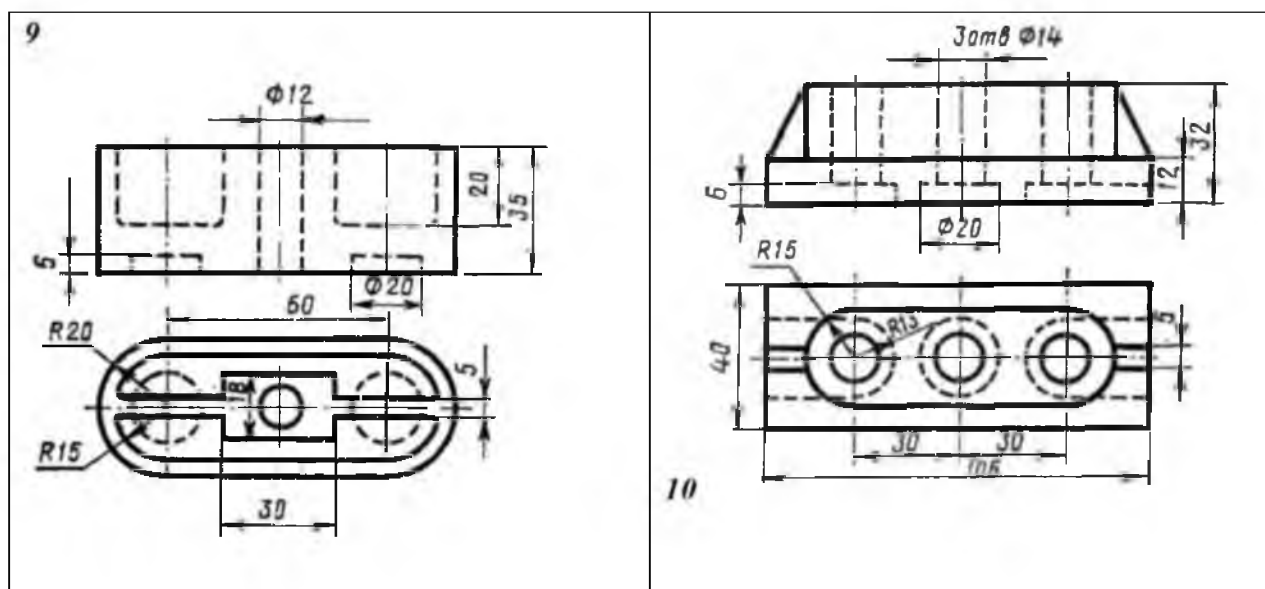
Графическая работа 17

Выполнить комплексный чертеж детали. Построение третьей проекции детали по двум заданным с выполнением простых разрезов.



3

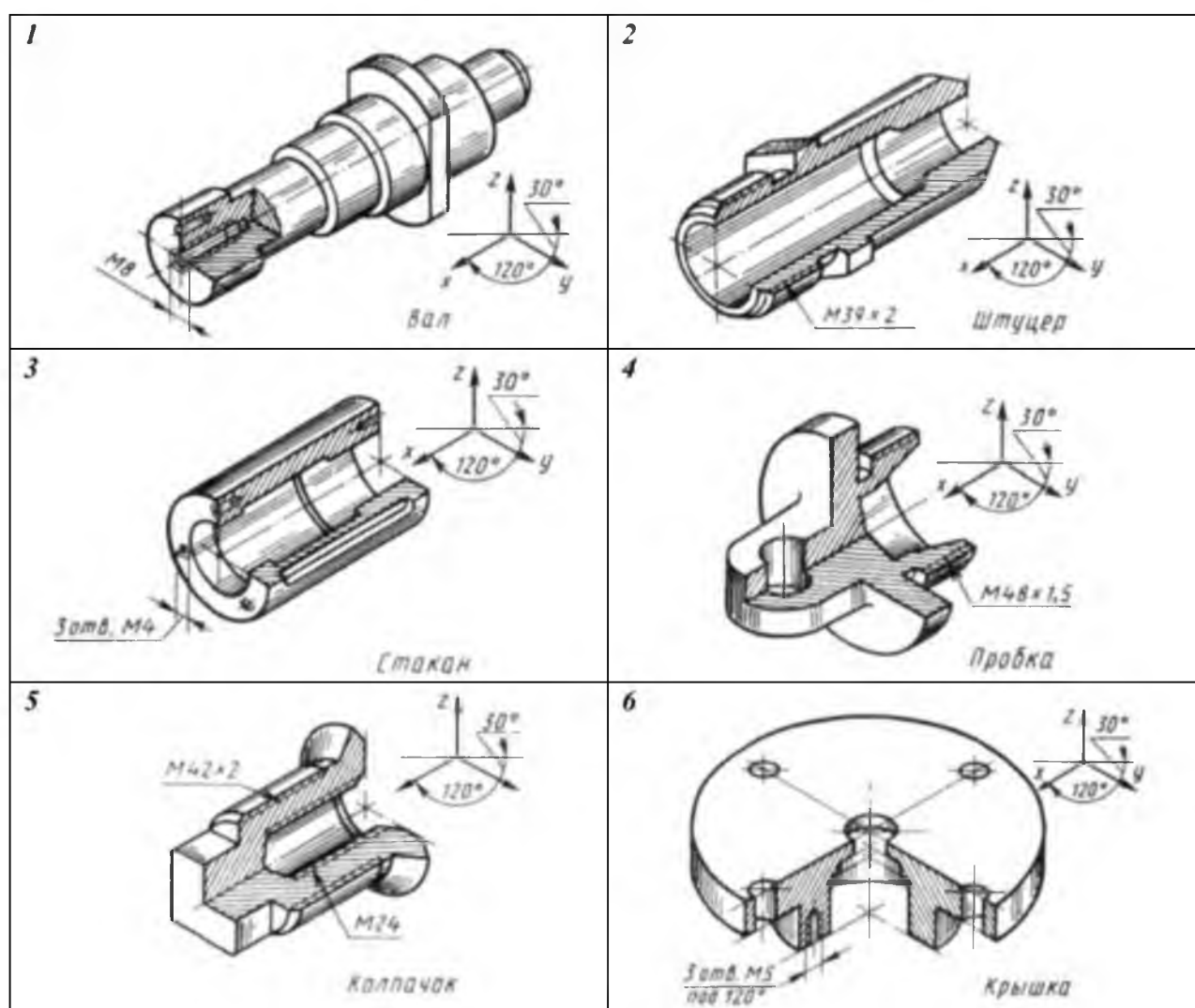


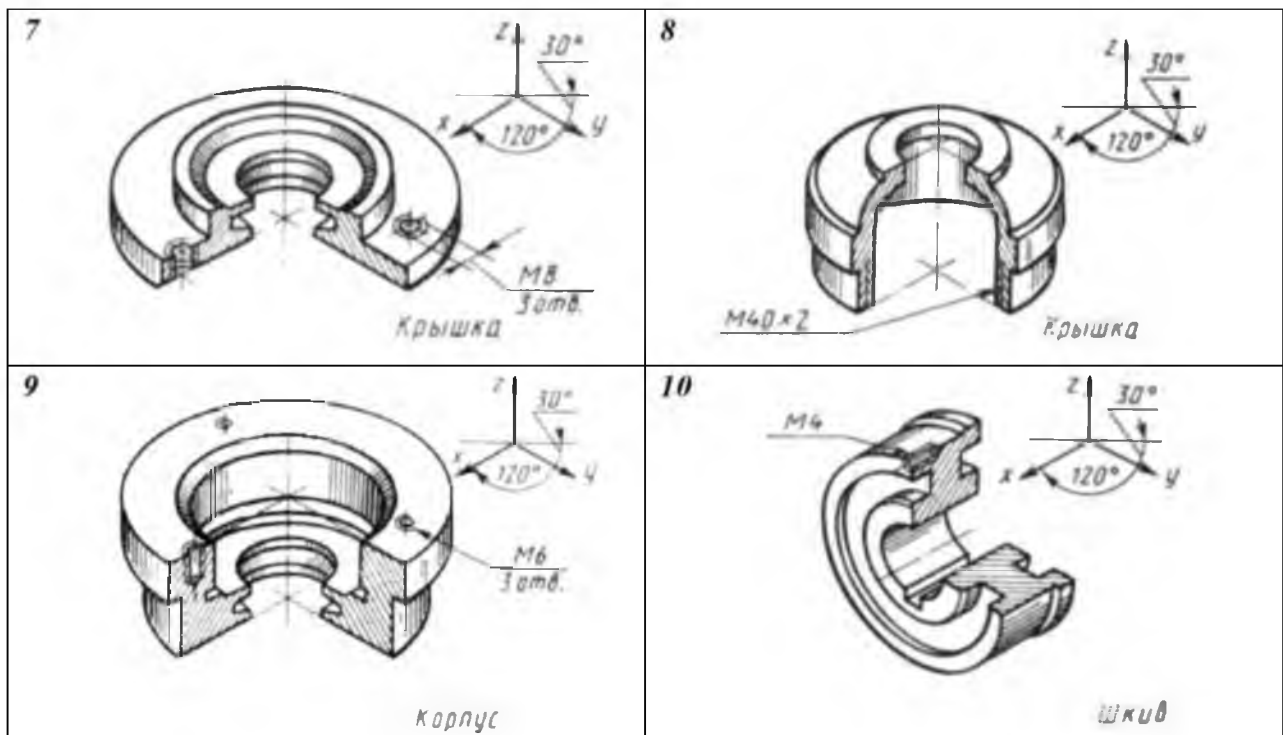


Тема: Эскизы деталей. Рабочие чертежи и схемы.

Графическая работа №19.

Выполнить эскиз детали





Тема Общие сведения об изделиях и составлении сборочных чертежей

Тема Чтение и детализирование чертежей.

Графическая работа №19-21.

Изучить принцип работы сборочной единицы. Выполнить рабочий чертеж детали.
Чтение и детализирование сборочных чертежей.

Описание сборочных единиц

ТО 11. 01.00.00 СБ. Клапан предохранительный

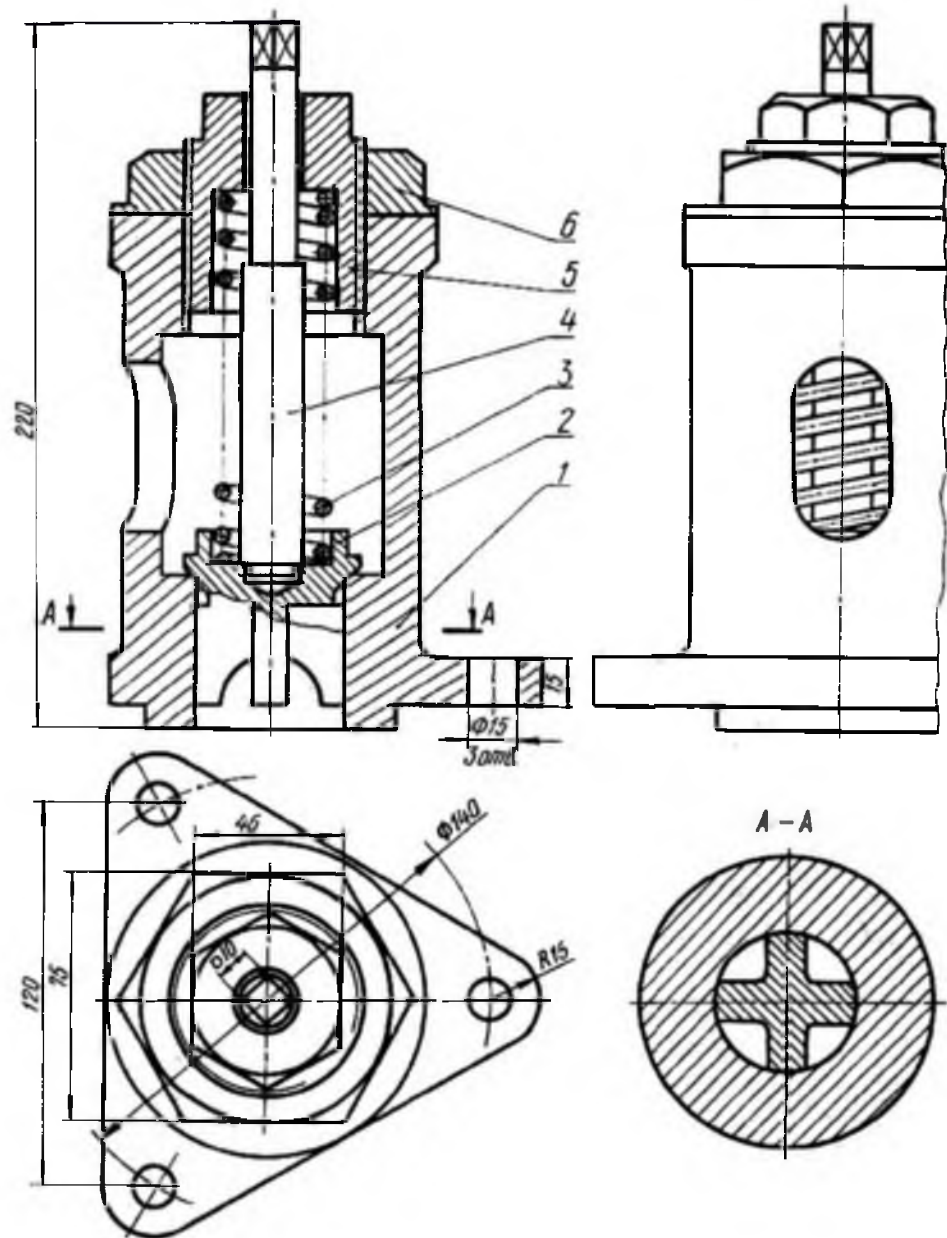
Назначение. Предохранительный клапан предназначен для сброса избыточного давления в закрытой емкости (баллоне, резервуаре).

Конструкция. Нижнее отверстие полости корпуса 1 служит направляющей для золотника 2. Золотник прижимается пружиной 3 к посадочному гнезду в корпусе. Верхний конец пружины упирается в гайку 5, регулируется гайкой. Контргайка 6 фиксируется положением гайки. Пружина одевается на шток 4. корпус имеет окно (для выпуска воздуха из его полости) и фланец с тремя отверстиями (для крепления предохранительного клапан по месту установки).

Принцип работы. В рабочем положении клапана перепускное отверстие закрыто золотником. При достижении давления, на которое отрегулирована пружина, золотник открывает перепускное отверстие и воздух попадает во внутреннюю полость корпуса и далее через выпускное окно в атмосферу. После сброса избыточного давления золотник под действием пружины перекрывает перепускное отверстие, и выход воздуха прекращается.

На чертеже предохранительный клапан изображен в закрытом положении.

ТО 11.01.00.00 СБ



					ТО 11.01.00.00 СБ							
Изм.	Лист	№ докум.	Подпись	Дата	Клапан предохранительный Сборочный чертеж				Лит.	Масса	Масштаб	
Разраб.		Иванов										1:2
прррр/Провер		Петров										
									Л	Листов	1	
Н. Кантр									МПК	зр.11то		
Утв.												

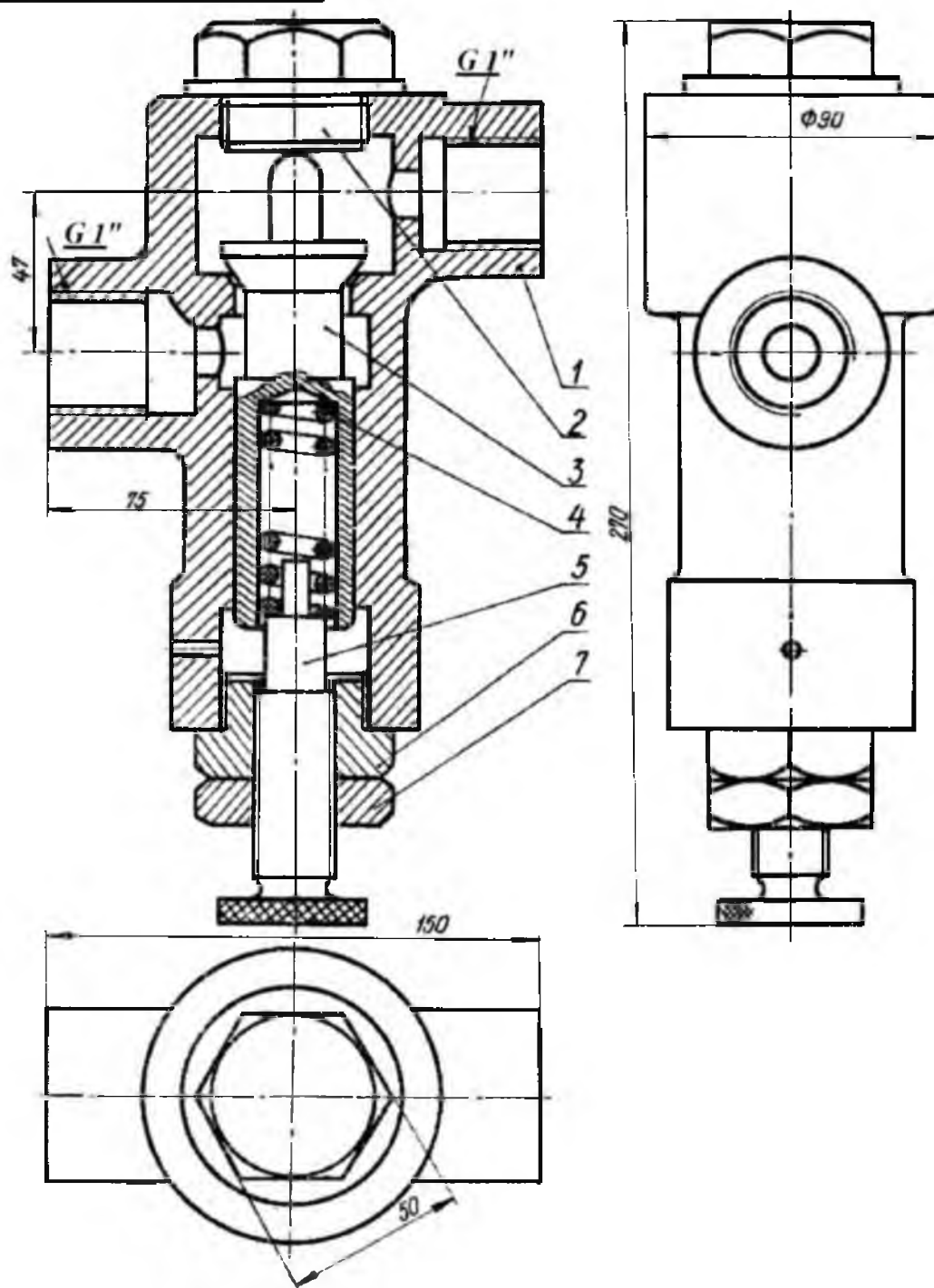
[illegible]

Клапан максимального давления Назначение. Клапан максимального давления предназначен для прекращения подачи воздуха к потребителю с давлением выше допускаемого

Конструкция. Корпус 1 имеет перегородку, отверстие в которой перекрывается золотником 3. Пружина 4 стремится держать золотник в приподнятом положении. Подъем золотника ограничивается пробкой 2. Пружина нижним концом упирается в винт 5, который в свою очередь ввинчивается в гайку 6. Сила давления пружины на золотник регулируется поворотом винта. Положение винта фиксируется контргайкой 7. Корпус имеет два патрубка с внутренней резьбой для крепления трубопроводов рабочей магистрали.

Принцип работы. В рабочем положении перепускное отверстие открыто. Воздух из верхней полости корпуса перепускается в его нижнюю полость. При достижении максимального давления, на которое отрегулирована пружина, золотник закрывает перепускное отверстие и движение воздуха из верхней полости корпуса в нижнюю прекращается. На чертеже клапан изображен в разрезе.

МЧ.11.02.00.00.СБ



					ТО. 11. 02.00.00 СБ			
Изм.	Лист	№ докум.	Подпись	Дата	Клапан максимального давления Сборочный чертеж	Лит.	Масса	Масштаб
Разраб.		Иванов						1:2
Провер.		Петров						
						Лист	Листов	1
Н. Контр.								
Утв.								

[illegible]

ТО. II. 03.00.00 СБ. Форсунка

Назначение. Форсунка служит для подачи горючего (в виде распыленной смеси нефти и сжатого воздуха) в топку заводских печей.

Конструкция. В корпусе 1 имеются три отверстия – одно коническое и два цилиндрические с резьбой. В нижнее резьбовое отверстие корпуса ввинчено сопло 2 и законтрено гайкой 7. На нижнем конце сопла установлен патрубок 4 и закреплен гайкой 6 через втулку 5.

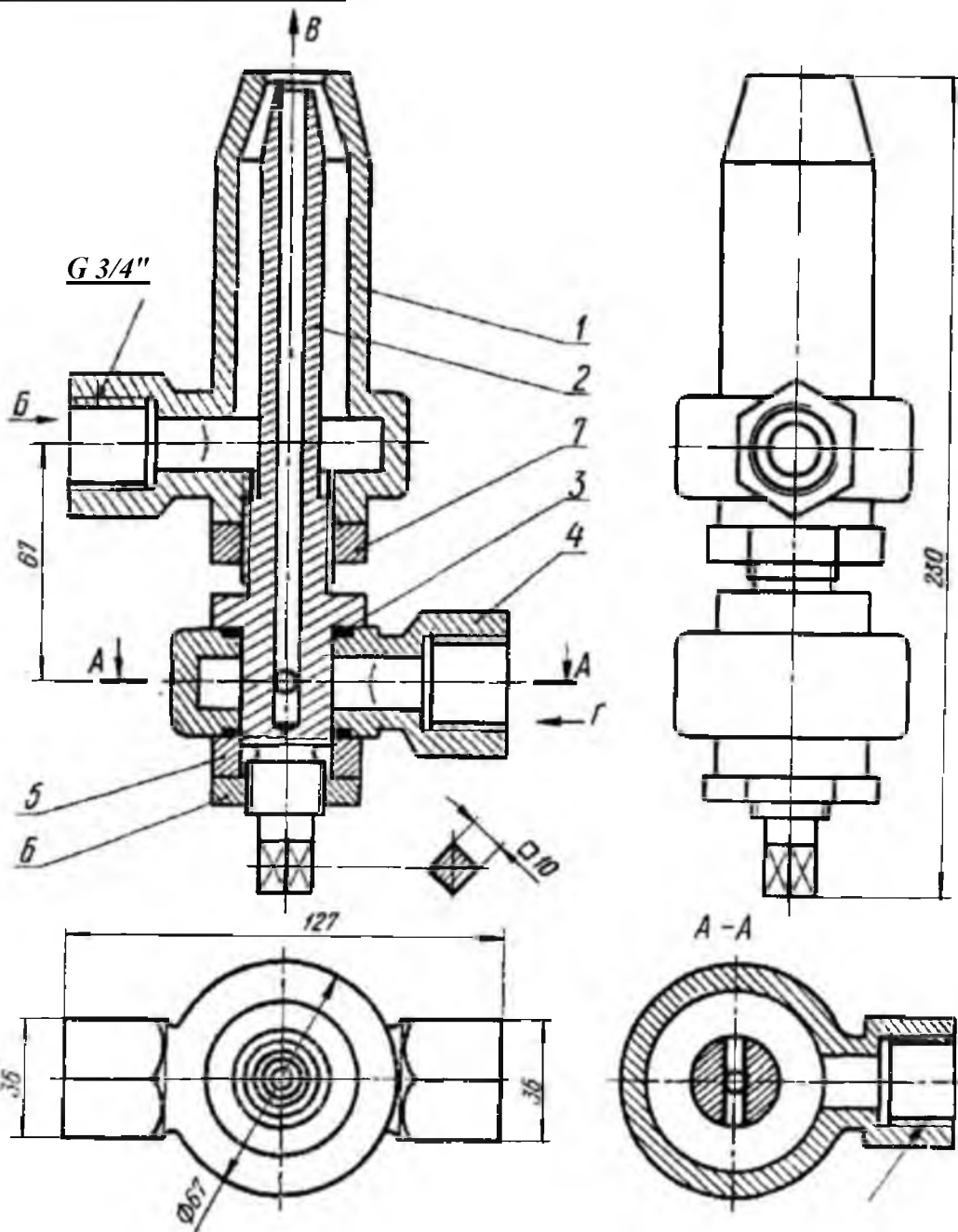
Прокладка 3 предупреждает утечку воздуха через неплотности соединения патрубка с соплом и втулкой.

Принцип работы. В рабочем положении форсунки нефть поступает из резервуара в полость корпуса (см. стрелку Б), окружает наконечник сопла и идет на выход через коническое отверстие (см. стрелку В). По трубопроводу, ввинченному в резьбовое отверстие патрубка (см. стрелку Г), подается воздух с давлением $P = 3 \div 5 \text{ атм.}$ Сжатый воздух проходит через два горизонтальных отверстия сопла и идет по вертикальному отверстию на выход (см. стрелку В). На выходе нефть смешивается со сжатым воздухом и образует мельчайший «нефтяной» туман, который подается как топливо в топку печей.

Количество выходящей из форсунки нефти зависит от величины зазора между коническим отверстием корпуса и коническим концом сопла. Регулируется подача смеси перемещением сопла в осевом направлении через посредство резьбы.

На чертеже форсунка изображена в разрезе.

МЧ II 03.00.00 СБ



					ТО. II. 03.00.00 СБ				
Изм.	Лист	№ докум.	Подпись	Дата	Форсунка Сборочный чертеж	Лист		Масса	Масштаб
Разраб.		Иванов							1:2
Пробер.		Петров							
						Лист		Листов	1
Н. Контр.						МПК гр. II то			
Умб									

Форма т	Зона	Поз.	Обозначение	Наименование	Кол.	Приме чание
				<u>Документация</u>		
A3			ТО II. 03.00.00. СБ	Сборочный чертеж		
				<u>Детали</u>		
		1	ТО II. 03.00.01	Корпус	1	
		2	ТО II. 03.00.02	Сопло	1	
		3	ТО II. 03.00.03	Прокладка	2	
		4	ТО II. 03.00.04	Патрубок	1	
		5	ТО II. 03.00.05	Втулка	1	
				<u>Стандартные изделия</u>		
		6		Гайка М 22	1	
				ГОСТ 5927-70		
		7		Гайка М 27	1	
				ГОСТ 5927-70		

					ТО II. 03.00.00.			
Изм.	Лист	№ докум.	Подпись	Дата				
Разраб.		Иванов			Форсунка	Литера	Лист	Листов
Провер.		Петров						
						МПК гр.11то		
Н.контр.								
Утв.								

Назначение. Домкрат служит для поднятия груза (например, автомобиля при ремонте) на небольшую высоту.

Конструкция. В полость корпуса 1 запрессована втулка 3, удерживаемая двумя установочными винтами 8. Втулка соединяется с подъемным винтом 4 через упорную резьбу. К торцу нижнего конца подъемного винта прикреплен винтом 7 шайба 2, которая ограничивает ход подъема винта. На верхний сферический конец подъемного винта насажена головка 5, которая удерживается от осевого перемещения винтами 6.

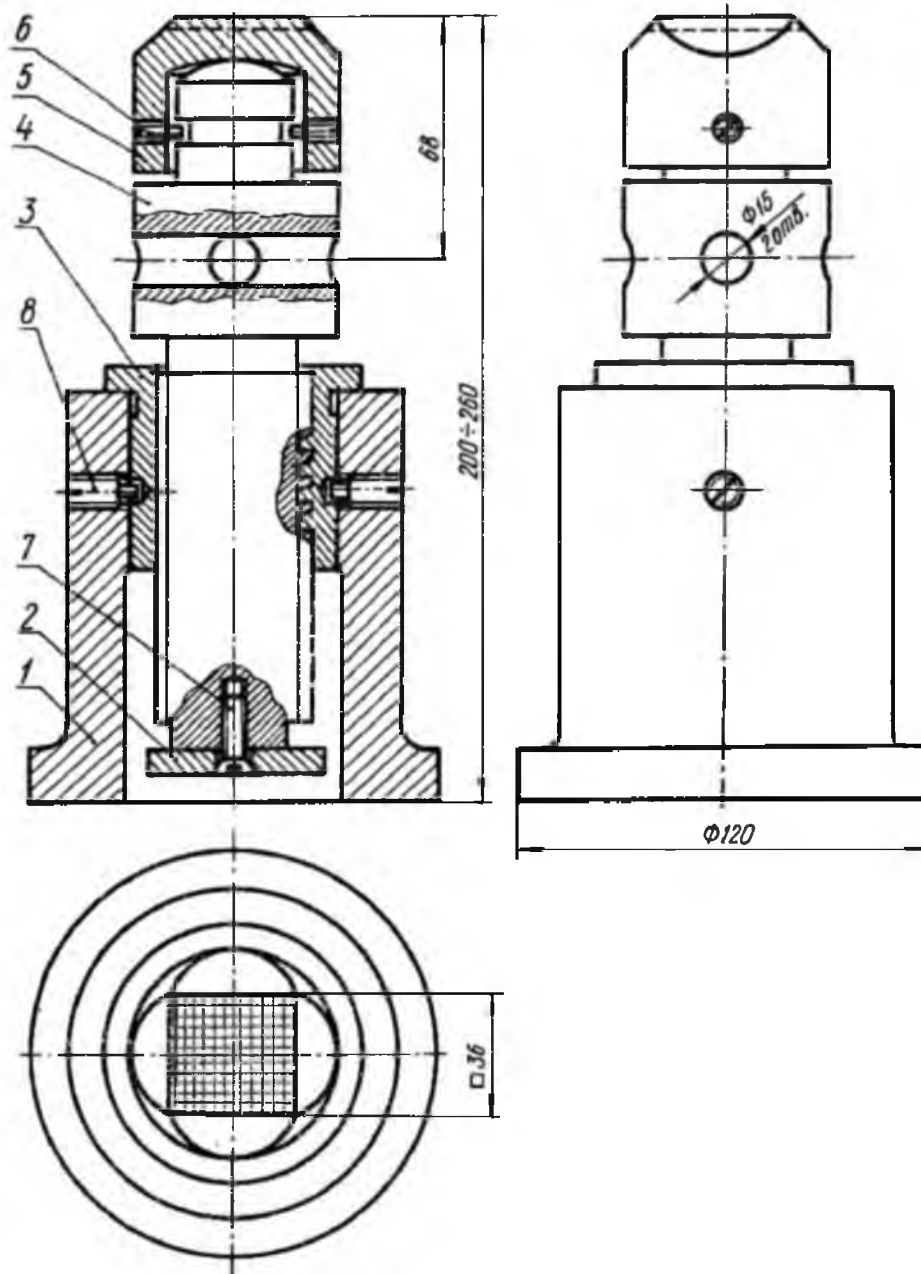
Принцип работы. В рабочем положении домкрата подъемному винту, имеющему упорную резьбу, придается вращательное движение. При вращении винта вправо груз поднимается, а при вращении влево – опускается. Устанавливается домкрат основанием корпуса на землю, а головка подставляется под груз (например, ось автомобиля).

Перед установкой домкрата подъемный винт должен быть вывинчен настолько, чтобы домкрат мог поместиться под грузом.

Вращательное движение подъемного винта производится вручную через рукоятку (стержень $\varnothing 14 \times 30$ на чертеже не изображен), которая вставляется в отверстие винта.

На чертеже домкрат изображен в нижнем положении.

93 000050 11 6W



					ТО 11.05.0000 СБ			
Изм.	Лист	№ докум.	Подпись	Дата	Домкрат Сборочный чертеж	Лист	Масса	Масштаб
Разраб.		Иванов						1:2
Продер		Петров						
						Лист	Листов	1
Н. Кантр					МПК гр.11то			
Утв.								

[illegible]

ТО II. 06.00.00 СБ. Буфер пружинный

Назначение. Пружинный буфер предназначен для поглощения ударной нагрузки движущейся тележки грузоподъемного крана при неисправном тормозе.

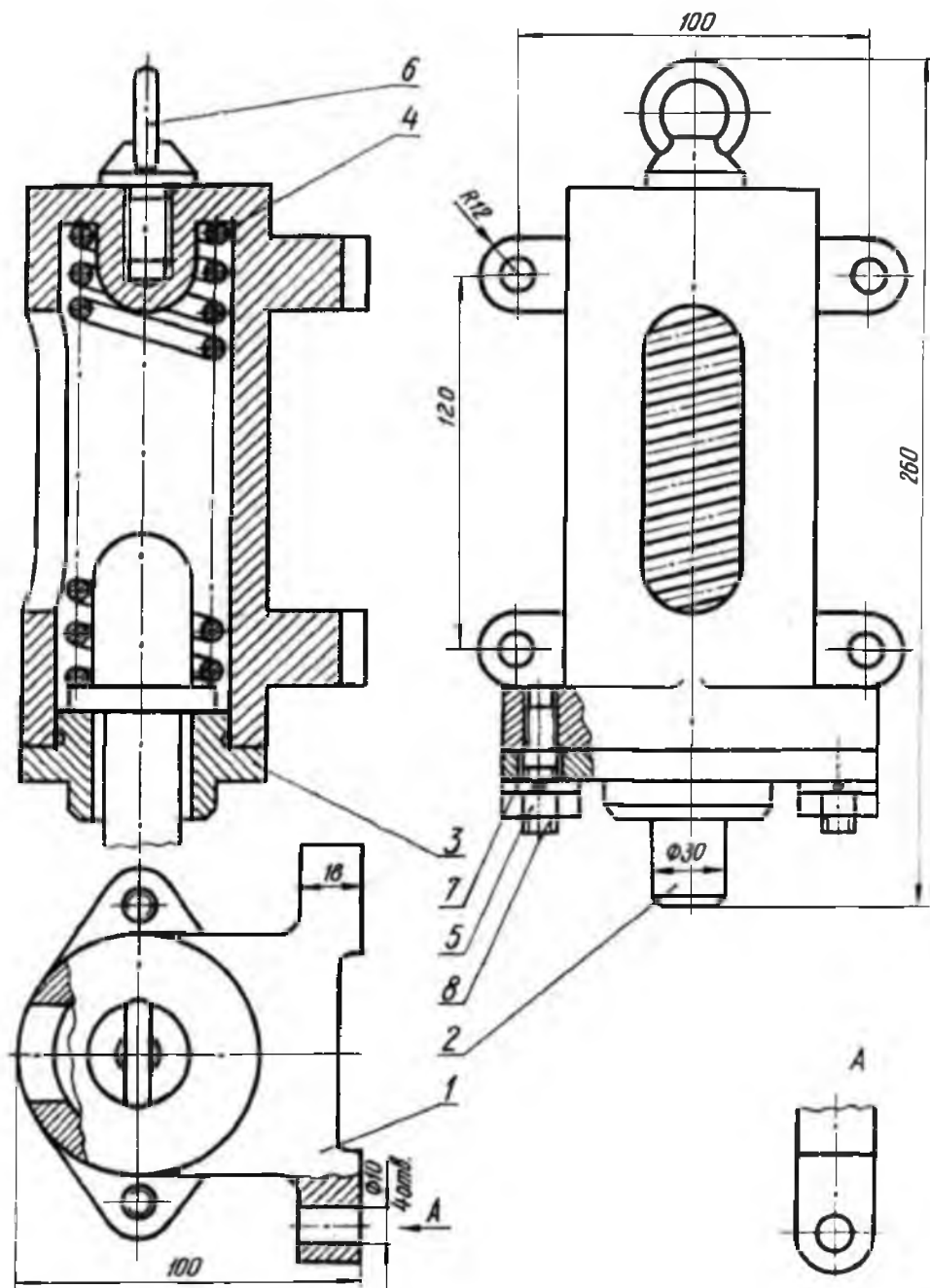
Конструкция. Корпус 1 имеет четыре прилива с отверстиями Ø 10 для крепления его болтами к раме тележки. В полости корпуса установлена пружина сжатия 4, которая опирается одним своим концом на буртик упора 2. В верхней части полости корпуса имеется выступ для центрирования пружин и для резьбового отверстия под рым-болт 6. Рым – болт предусмотрен для захвата буфера (при его перемещении) крюком грузоподъемного крана.

Нижняя часть полости корпуса закрывается фланцем 3, который служит ограничителем действия пружины на упор при отсутствии нагрузки. Фланец крепится к корпусу двумя шпильками 8 и гайками 5. Под гайки подложены пружинные шайбы 7, которые предупреждают самоотвинчивание гаек.

Принцип работы. В рабочем положении буфера при ударе тележки о встречное препятствие сила удара передается через упор на пружину, которая, сжимаясь, гасит удар.

На чертеже буфер изображен в нерабочем положении.

93 0000 90 11 1W



					ТО 11.06.00.00 СБ			
Изм.	Лист	№ докум.	Подпись	Дата	Буфер пружинный Сборочный чертеж	Лит.	Масса	Масштаб
Разраб		Иванов						1:2
Провер		Петров						
						Лист	Листов	1
Н. Контр.						МПК гр.11то		
Утв								

[illegible]

ТО II. 07.00.00 СБ. Клапан предохранительный

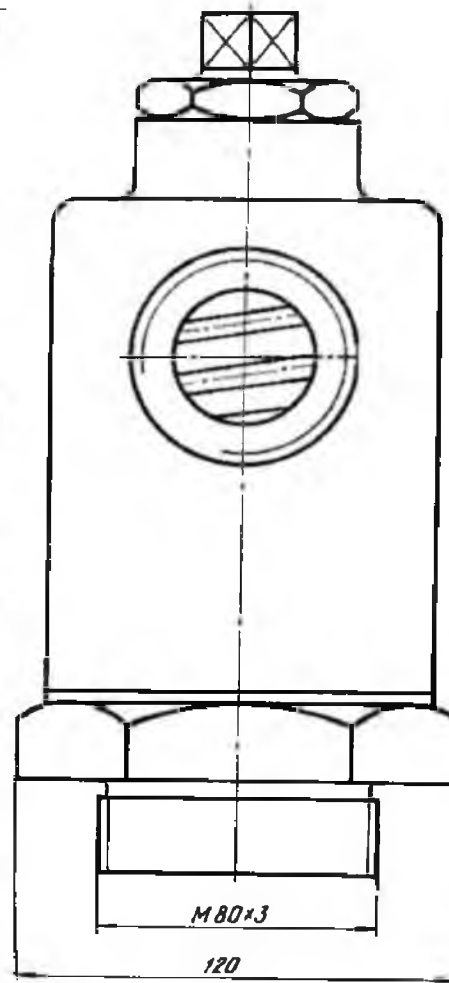
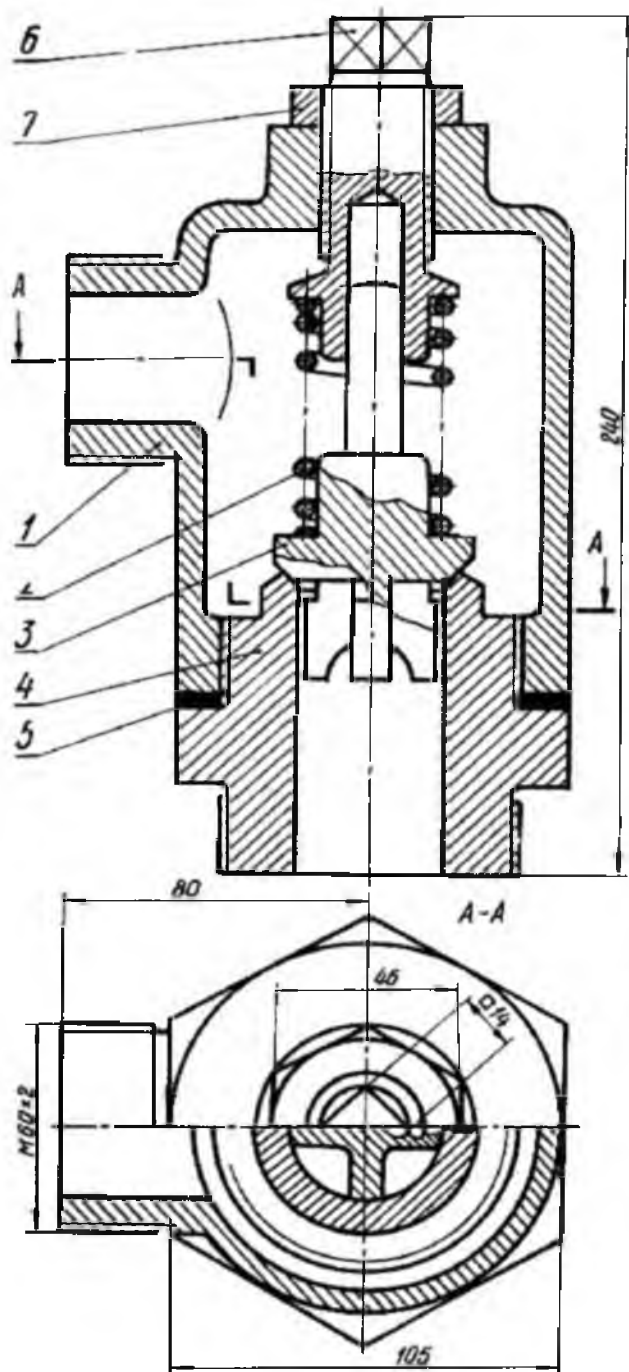
Назначение. Предохранительный клапан предназначен для сброса избыточного давления газа или жидкости в закрытом резервуаре.

Конструкция. В корпус 1 ввинчивается штуцер 4 и шпindel 6. Шпindel на верхнем конце имеет форму квадрата для посадки поворотной рукоятки (маховика). В верхней части штуцера имеется гнездо под золотник 3. Золотник имеет направляющие лопасти (внизу), которые входят в отверстие штуцера. Под действием силы пружины 2 золотник плотно поджимается к гнезду перепускного отверстия. Контргайкой 7 фиксируется положение шпинделя. Прокладка 5 уплотняет соединение корпуса и штуцера. Корпус имеет патрубок с наружной резьбой для предохранительного клапана по месту установки.

Принцип работы. В рабочем положении предохранительного клапана перепускное отверстие закрыто золотником. Давление пара, находящегося в полости штуцера, передается на золотник. При достижении давления, на которое отрегулирована пружина, золотник приподнимается и пар поступает в полость корпуса, а далее в отводной (горизонтальный) трубопровод. После сброса избыточного давления пара золотник под действием пружины опускается, перепускное отверстие перекрывается, и поступление пара прекращается.

На чертеже клапан изображен в без разреза.

МЧ.11.07.00.00 СБ



					ТО. 11. 07.0000 СБ				
					Клапан предохранительный Сборочный чертёж	Лит.		Масса	Масштаб
Изм.	Лист	№ докум.	Подпись	Дата					1:2
Разраб.		Иванов							
Провер.		Петров							
						Лист		Листов	1
						МПК зр.11то			
Н. Контр.									
Утв.									

[illegible]

ТО II. 08.00.00 СБ. Вентиль угловой

Назначение. Вентиль предназначен для регулирования подачи газа (или пара), пропускаемого трубопроводом.

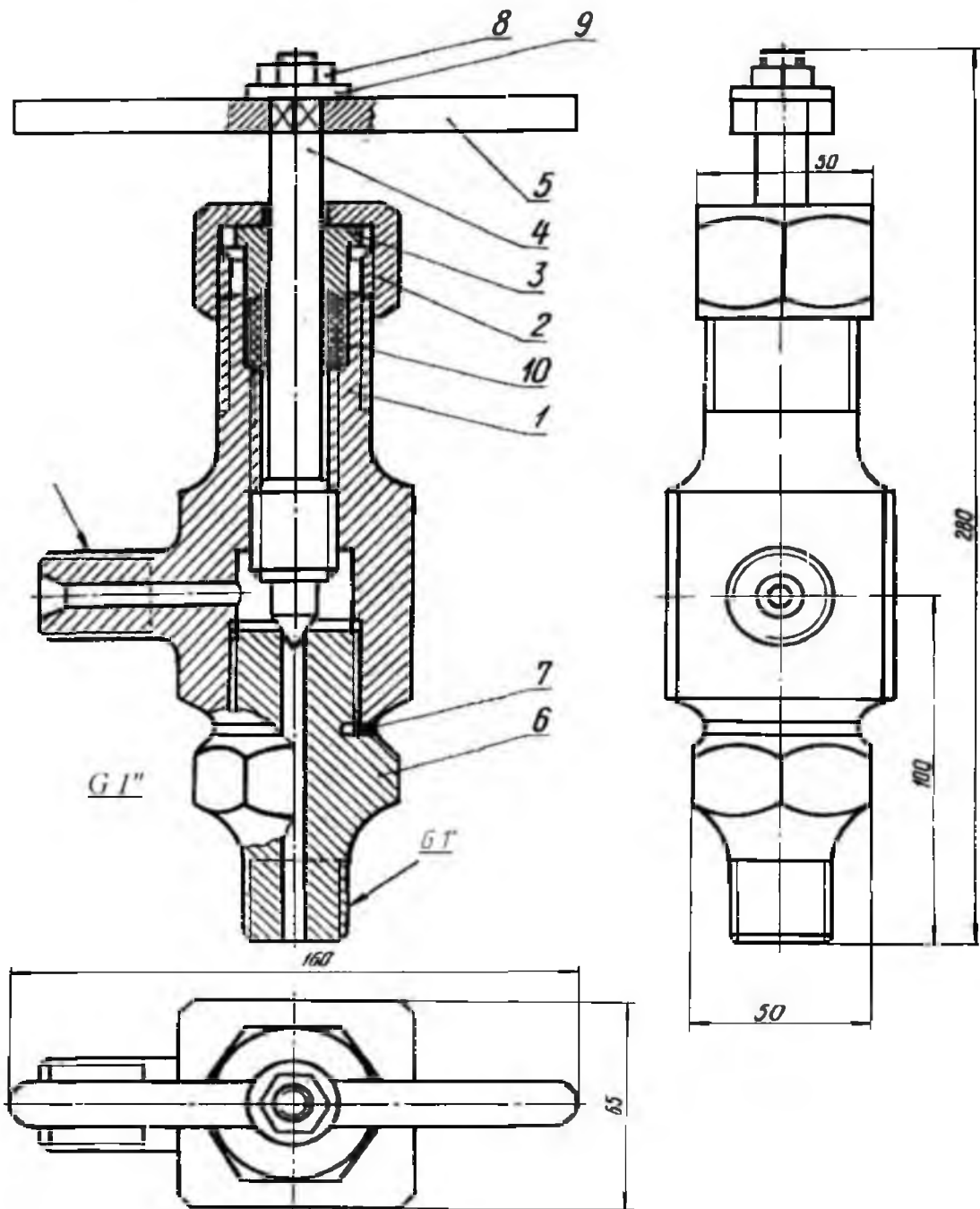
Конструкция. В корпус 1 ввинчивается штуцер 6. Резьбовое соединение корпуса и шпинделя 4 обеспечивает поступательное движение последнего. Нижний конец шпинделя имеет коническую форму, соответственно с коническим отверстием штуцера. На верхнем конце шпинделя (имеющего форму квадрата) насажена рукоятка 5. Она закреплена с помощью гайки 8 и шайбы 9. При повороте рукоятки поступательно перемещается шпиндель, в результате чего изменяется величина зазора между ними штуцером, через который перетекает газ.

Для предупреждения просачивания газа из полости корпуса используется прокладка 7, а в его верхней части устроено сальниковое уплотнение: набивка 10, нажимная втулка 3, накидная гайка 2.

Принцип работы. В рабочем положении вентиля газ поступает в полость корпуса через выходное отверстие его и проходит через отверстия штуцера. Количество выходящего газа зависит от величины зазора между отверстием штуцера и шпинделем.

На чертеже главный вид вентиль изображен в разрезе, вид сверху и сбоку в закрытом положении.

93 000080 II 6W



					ТО 11.08.0000 СБ				
Изм.	Лист	№ докум.	Подпись	Дата	Вентиль угловой	Лит.		Масса	Масштаб
Разраб.		Иванов							1:2
Пробер		Петров							
						Лист		Листов 1	
Н. Контр.						МПК гр.11то			
Умд									

[illegible]

Клапан

Назначение. Клапан предназначен для регулирования давления, пара в системе паропровода.

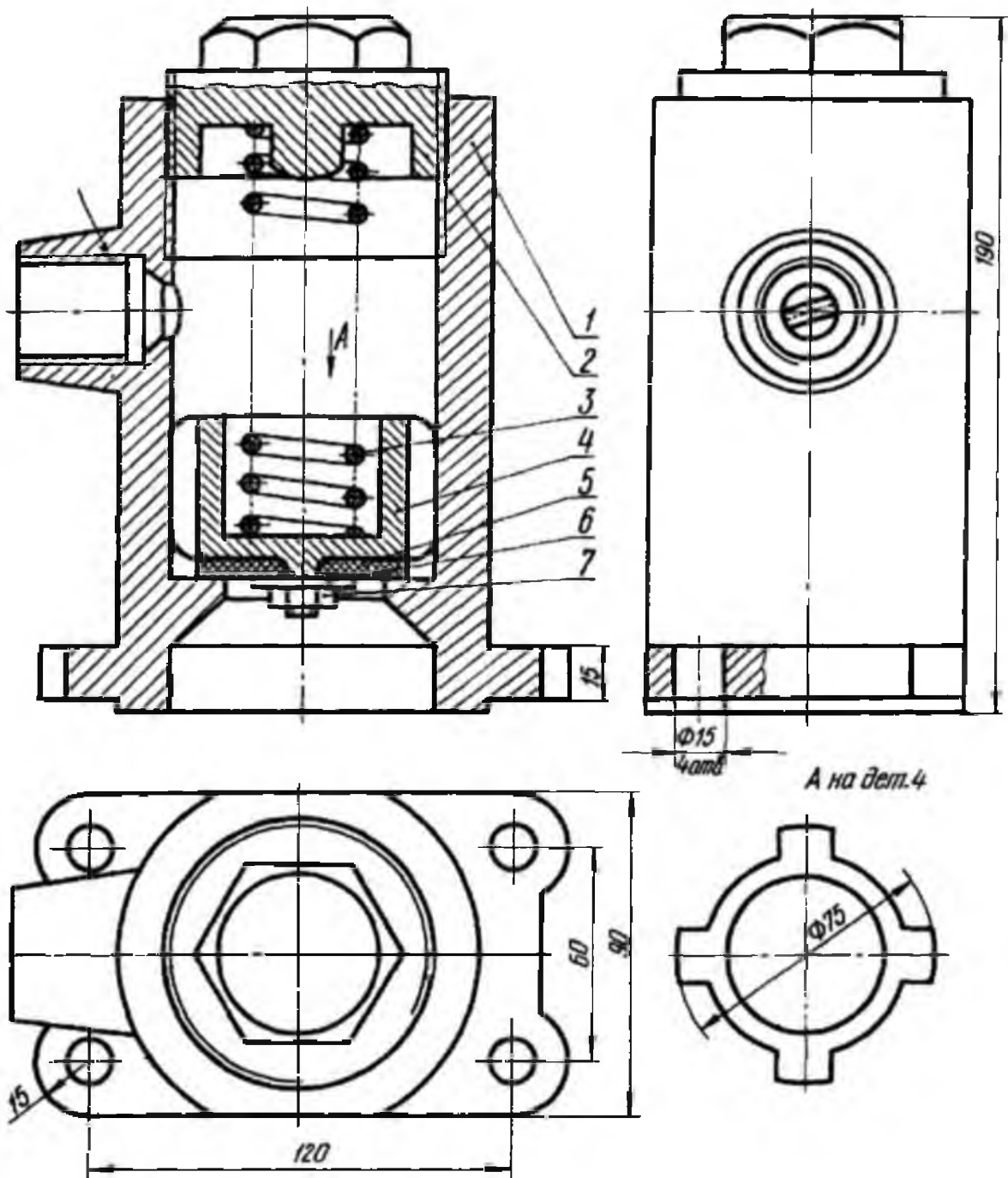
Конструкция. Корпус 1 имеет фланец с четырьмя крепежными отверстиями для установки клапана в систему паропровода. Корпус клапана закрывается гайкой 2, которая служит одновременно и седлом пружины. В полости корпуса имеется два отверстия: резьбовое (для присоединения отводящей магистрали паропровода) и перепускное. Перепускное отверстие плотно перекрывается золотником 4 под действием силы пружины 3. Плотность перекрытия обеспечивает прокладка 5, прикрепленная к золотнику гайкой 7 и шайбой 6.

Наружная поверхность золотника соприкасается со стенками цилиндрической полости корпуса четырьмя направляющими ребрами (лопастями), между которыми свободно проходит пар.

Принцип работы. В рабочем положении клапана нижняя полость корпуса соединяется с рабочей магистралью паропровода. Избыточное давление пара давит на золотник снизу, и золотник приподнимается. При движении золотника вверх образуется зазор между перепускным отверстием корпуса и прокладкой. Через этот зазор пар проходит в верхнюю часть корпуса, а затем – в отводящую магистраль паропровода.

На чертеже главный вид клапана изображен в разрезе, а вид сверху с боку в закрытом положении.

9.7 00'00'60 II HW



					ТО. 11. 09.00.00 СБ					
Имя	Лист	№ докум.	Подпись	Дата	Клапан Сборочный чертеж			Лит	Масса	Масштаб
Разраб		Иванов								1:2
Провер		Петров								
						Лист	Листов		1	
Н. Контр.								МПК зр.11то		
Утв.										

[illegible]

Назначение. Вентиль предназначен для перепуска жидкости из одной емкости в другую.

Конструкция. В корпус 1 ввинчиваются штуцеры 6, 3. Резьбовое соединение штуцера 6 и шпинделя 4 обеспечивает поступательное движение последнего. Нижний конец шпинделя имеет форму конуса, соответствующего форме перепускного отверстия корпуса. Верхний конец шпинделя имеет форму квадрата для насадки рукоятки или маховика (на чертеже не изображен).

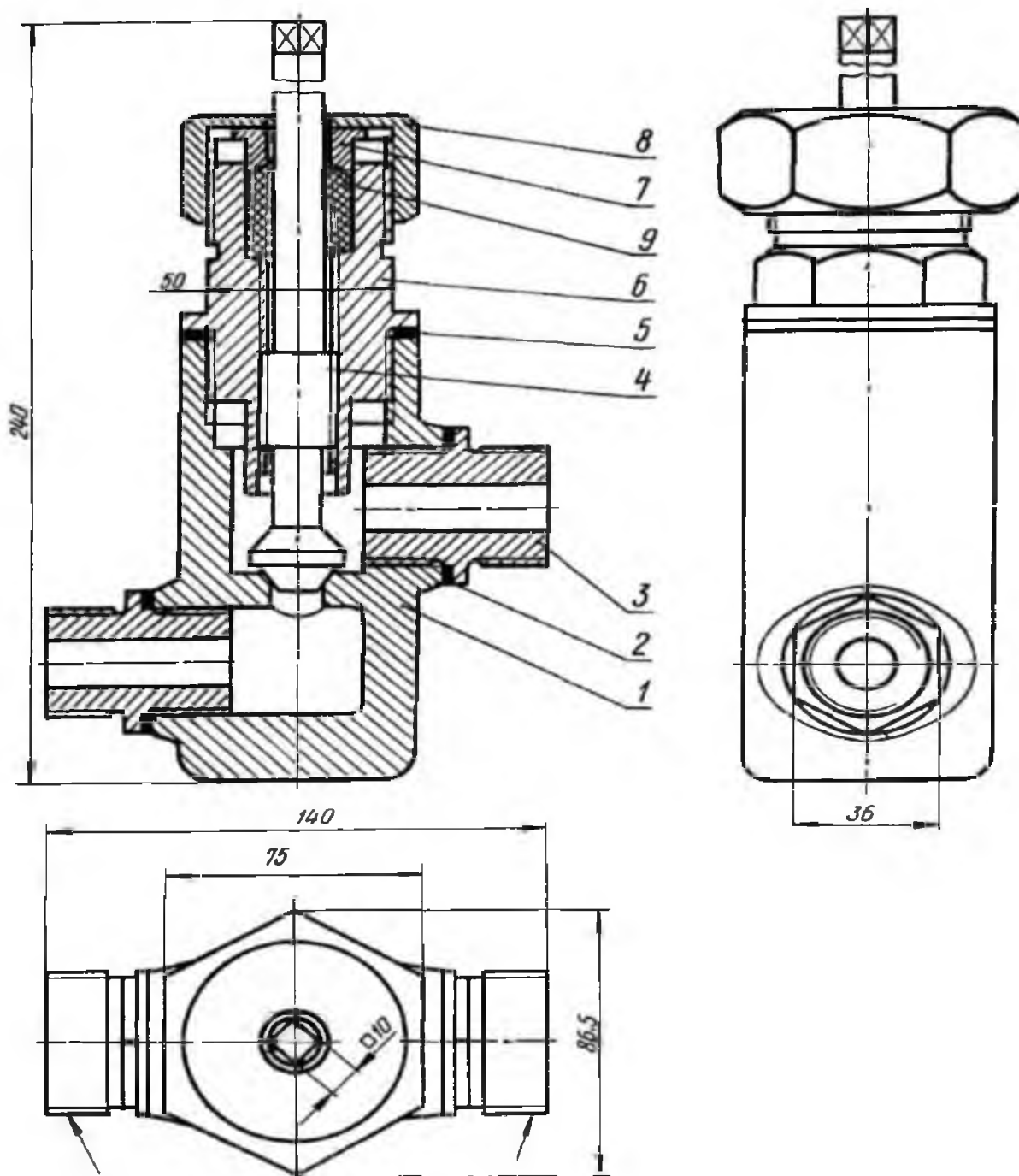
Поворачиванием шпинделя через маховик перекрывается перепускное отверстие корпуса.

Корпус крепится к трубопроводу через штуцеры 3. Детали 2, 5, 8, 7 и набивка 9 предупреждают утечку жидкости между соответствующими поверхностями соединяемых деталей.

Принцип работы. В рабочем положении вентиля жидкость поступает в полость корпуса через правый штуцер, проходит через пропускное отверстие и выходит в трубопровод через левый штуцер. Количество пропускаемой жидкости зависит от величины зазора между перепускным отверстием и коническим концом шпинделя.

На чертеже главный вид вентиля изображен в разрезе, а вид сверху с боку в закрытом положении.

МЧ 11.10.00.00 СБ



					ТО. 11. 100000 СБ								
Изм.	Лист	№ докум.	Подпись	Дата	Вентиль угловой Сборочный чертеж				Лит.		Масса	Масштаб	
Разраб.		Иванов											1:2
Провер		Петров											
									Лист		Листов	1	
Н. Контр.									МПК гр.11мо				
Утв.													

[illegible]

Задание 1.

Вопрос 1. Какими размерами определяются форматы чертежных листов?

- 1) Любыми произвольными размерами, по которым вырезан лист;
- 2) Обрамляющей линией (рамкой формата), выполняемой сплошной основной линией;
- 3) Размерами листа по длине;
- 4) Размерами внешней рамки, выполняемой сплошной тонкой линией;
- 5) Размерами листа по высоте.

Вопрос 2. Где располагается основная надпись чертежа по форме 1 на чертежном листе?

- 1) Посередине чертежного листа;
- 2) В левом верхнем углу, примыкая к рамке формата;
- 3) В правом нижнем углу;
- 4) В левом нижнем углу;
- 5) В правом нижнем углу, примыкая к рамке формата.

Вопрос 3. Толщина сплошной основной линии в зависимости от сплошности изображения и формата чертежа лежит в следующих пределах?

- 1) 0,5 2,0 мм.;
- 2) 1,0 1,5 мм.;
- 3) 0,5 1,4 мм.;
- 4) 0,5 1,0 мм.;
- 5) 0,6 1,5 мм.

Вопрос 4. По отношению к толщине основной линии толщина разомкнутой линии составляет?

- 1) (0,5 1,0) S;
- 2) (1,0 2,0) S;
- 3) (1,0 2,5) S;
- 4) (0,8 1,5) S;
- 5) (1,0 1,5) S.

Вопрос 5. Масштабы изображений на чертежах должны выбираться из следующего ряда?

- 1) 1:1; 1:2; 1:2,5; 1:3; 1:4; 1:5; 2:1; 2,5:1; 3:1; 4:1; 5:1.....
- 2) 1:1; 1:2; 1:2,5; 1:4; 1:5; 2:1; 2,5:1; 4:1; 5:1.....
- 3) 1:1; 1:2; 1:4; 1:5; 2:1; 4:1; 5:1.....
- 4) 1:2; 1:2,5; 1:4; 1:5; 2:1; 2,5:1; 4:1; 5:1.....
- 5) 1:1; 1:2,5; 1:5; 2:1; 2,5:1; 5:1.....

№ вопроса	1	2	3	4	5
ответ	4	3	5	5	2

Задание 2.

Вопрос 1. Размер шрифта h определяется следующими элементами?

- 1) Высотой строчных букв;
- 2) Высотой прописных букв в миллиметрах;
- 3) Толщиной линии шрифта;
- 4) Шириной прописной буквы A , в миллиметрах;
- 5) Расстоянием между буквами.

Вопрос 2. ГОСТ устанавливает следующие размеры шрифтов в миллиметрах?

- 1) 1; 2; 3; 4; 5; 6; 7; 8; 9; 10.....
- 2) 1,5; 2,5; 3,5; 4,5; 5,5; 6,5.....
- 3) 2; 4; 6; 8; 10; 12.....
- 4) 2,5; 3,5; 5; 7; 10; 14; 20.....
- 5) 1; 3; 5; 7; 9; 11; 13.....

Вопрос 3. Толщина линии шрифта d зависит от?

- 1) От толщины сплошной основной линии S ;
- 2) От высоты строчных букв шрифта;
- 3) От высоты прописных букв;
- 4) От угла наклона шрифта;
- 5) Не зависит ни от каких параметров и выполняется произвольно.

Вопрос 4. В соответствии с ГОСТ 2.304-81 шрифты типа A и B выполняются?

- 1) Без наклона и с наклоном 60° ;
- 2) Без наклона и с наклоном около 75° ;
- 3) Только без наклона;
- 4) Без наклона и с наклоном около 115° ;
- 5) Только с наклоном около 75° .

Вопрос 5. Какой может быть ширина букв и цифр стандартных шрифтов?

- 1) Ширина букв и цифр одинакова;
- 2) Ширина всех букв одинакова, а всех цифр другая;
- 3) Ширина абсолютно всех букв и цифр произвольная;
- 4) Ширина букв и цифр определяются высотой строчных букв;
- 5) Ширина букв и цифр определяются размером шрифта.

№ вопроса	1	2	3	4	5
ответ	2	4	3	2	5

Тесты

Графическое оформление чертежей**Методы и приемы проекционного черчения****(основы начертательной геометрии). Техническое рисование.****Раздел 3. Машиностроительное черчение**

Вариант 1.

1 Основная надпись на формате А3 располагается

- 1) по длинной стороне
- 2) по короткой стороне
- 3) и по длинной и по короткой

2 Штрих- пунктирная линия имеет толщину

- 1) S
- 2) $S/2 \dots S/3$
- 3) $S/3 \dots 1,5S$

3 Масштаб 1:2 - это масштаб

- 1)увеличения
- 2) уменьшения
- 3) натуральная величина

4 Прописная буква 5-го шрифта имеет высоту

- 1) 5 мм
- 2) 7 мм
- 3) 10 мм

5 Расстояние между параллельными размерными линиями

- 1) 5... 7 мм
- 2) 6.. 10 мм
- 3) 10.. 13 мм

6. Укажите название плоскости перпендикулярной плоскости проекций

- 1) плоскость общего положения
- 2) проецирующая плоскость
- 3) плоскость уровня

7. Если точка A наиболее удалена от фронтальной плоскости проекций, то её

наибольшая координата

- 1) Xa
- 2) Ya
- 3) Za

8. Ось Oy в прямоугольной диметрической проекции расположена к горизонтальной линии под углом

- 1) 45°
- 2) $41^\circ 25'$
- 3) 30°

9. В прямоугольной изометрической проекции оси Ox' и Oz' расположены друг к другу под углом

- 1) 60°
- 2) 90°
- 3) 120°

10. Не обозначаются виды

- 1) основной
- 2) дополнительный
- 3) местный

11. Под каким углом выполняется штриховка на разрезе детали, изготовленной из металла

- 1) 30°
- 2) 45°
- 3) 60°

12. Резьба M20

- 1) метрическая
- 2) трапециидальная
- 3) упорная

13. Границей части вида и части размера является линия

- 1) сплошная волнистая
- 2) штрих пунктирная тонкая
- 3) штриховая

14. На разрезах изображается невидимый контур

- 1) всегда
- 2) иногда
- 3) в исключительных случаях

15. На сборочном чертеже допускается не изображать

- 1) уклоны
- 2) конусность
- 3) зазоры

16. Выносные линии позиционных обозначений на сборочном чертеже выполняются линией

- 1) сплошной толстой
- 2) сплошной тонкой
- 3) штриховой

№ вопроса	1	2	3	4	5	6	7	8	9	10	11	12	13	14	15	16
ответ	3	2	2	1	2	2	2	2	3	1	2	1	1,2	1	3	1

Вариант 2

1. Какие размеры имеет формат A2

- 1) 297X210
- 2) 297X420
- 3) 594X420

2 Основная надпись для первого листа чертежей и схем выполняется

- 1) по форме 2

- 2) по форме 1
- 3) по форме 2а

3 Масштаб не соответствует ГОСТу

- 1)1:4
- 2)1:5
- 3)1:8

4 Выносные линии проводятся линией

- 1)сплошной толстой
- 2)сплошной тонкой
- 3)штриховой

5 Расстояние от линии контура до первой размерной линии

- 1)5 мм
- 2)10 мм
- 3)12 мм

6 Буквой R обозначают

- 1)размеры цилиндрических поверхностей
- 2)размеры квадратов
- 3)размеры округлений

7. Если точка А наиболее удалена от профильной плоскости проекций, то её наибольшая координата

- 1)Xa
- 2)Ya
- 3)Za

8 Угол между осями Оу и Oz в прямоугольной изометрической проекции равен

- 1)45°
- 2)90°
- 3)120°

9 Технический рисунок -это

- 1)аксонометрическая проекция, выполненная от руки с изображением освещенности поверхности
- 2) аксонометрическая проекция
- 3) чертёж с изображением освещенности поверхности

10 Изображение поверхности детали в ограниченном месте называется

- 1)разрезом
- 2)дополнительным видом
- 3)местным видом

11. Если соединяется половина вида к половине разреза, то их разделяет

- 1)штриховая линия
- 2)штрихпунктирная
- 3)сплошная тонкая

12 Метрическая резьба применяется

- 1) при большой осевой нагрузке
- 2) основной крепежной
- 3) при большой динамической нагрузке

13. На рабочем чертеже детали должны быть сведения

- 1)все данные, необходимые для изготовления и контроля
- 2)необходимые изображения
- 3) необходимые изображения и материал

14. На сборочном чертеже при продольном разрезе не штрихуют

- 1)штулку
- 2)болт
- 3)пружину

15. В какой раздел спецификации будет входить название “ось”

- 1)“сборочная единица”

- 2) “детали”
- 3) “стандартные изделия”

16. Если перечень элементов выполняется в виде самостоятельного документа, то на каком формате

- 1) A2
- 2) A3
- 3) A4

17 Текстовая документация к сборочному чертежу называется

- 1) спецификация
- 2) ведомость
- 3) перечень элементов

№ вопроса	1	2	3	4	5	6	7	8	9	10	11	12	13	14	15	16	17
ответ	3	2	3	2	2	3	1	3	1	3	2	2	1	2	2	3	1

Контрольная работа №1. Графическое оформление чертежей. Комплексный чертеж точки.

Контрольная работа №2.

Контрольная работа №1

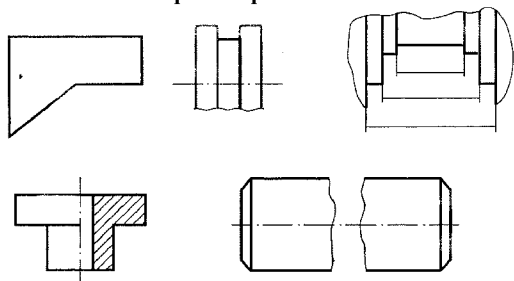
Графическое оформление чертежей. Геометрические построения. Комплексный чертеж точки.

Вариант

1. Какая линия применяется для изображения размерных и выносных линий? Какова ее толщина по отношению к толщине сплошной основной линии?

2. Какой из приведенных ниже масштабов не соответствует ГОСТ 2.302-68. 1:2; 1:2,5; 1:3; 1:4; 1:5; 1:15.

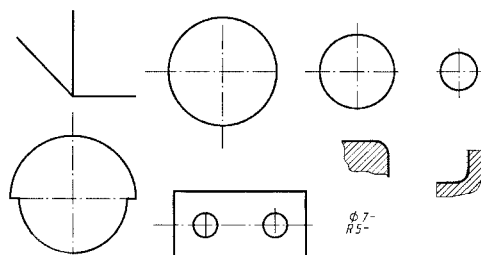
1. Впишите в окружность диаметром 60 мм правильный пятиугольник.
2. Нанести размеры на выполненных чертежах в соответствии с ГОСТ 2.307-68



3. По координатам выполнить комплексный чертеж точек A(25;15;30) и B(10;0;5)

Вариант 2.

1. Какая линия применяется для изображения осевых и центровых линий? Какова ее толщина по отношению к толщине сплошной основной линии?
2. Дайте определение понятию масштаб.
3. Впишите в окружность диаметром 60 мм правильный семиугольник.
4. Нанести размеры на выполненных чертежах в соответствии с ГОСТ 2.307-68



5. По координатам выполнить комплексный чертеж точек

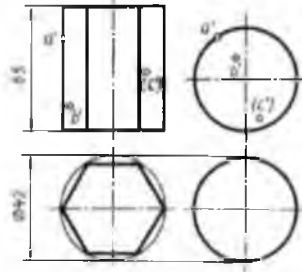
$A(0;15;25)$ и $B(10;25;5)$

Контрольная работа №2

Проецирование отрезка прямой линии. Проекция моделей. Проецирование геометрических тел

Вариант 1.

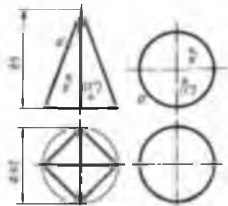
1. По заданным координатам концов отрезка АВ построить его наглядное изображение и комплексный чертёж. Определить положение отрезка относительно плоскостей проекций. $A(50;20;15)$, $B(10;20;15)$ $A(35;30;40)$, $B(35;30;0)$
2. Выполнить комплексный чертёж двух геометрических тел с нанесением на поверхности данных тел проекций точек А, В, С.



3. Дайте определение геометрическому телу – сфера.
4. Какие прямые называются прямыми общего положения?

Вариант 2.

1. По заданным координатам концов отрезка АВ построить его наглядное изображение и комплексный чертёж. Определить положение отрезка относительно плоскостей проекций $A(35;30;40)$, $B(35;30;0)$
2. Выполнить комплексный чертёж двух геометрических тел с нанесением на поверхности данных тел проекций точек А, В, С.



3. Дайте определение геометрическому телу – конус.
4. Какие прямые называются прямыми частного положения?

Вопросы для проведения зачета

1

1. Что изучает дисциплина инженерная графика?
2. Что называется простым разрезом? Виды простых разрезов?
3. В каких единицах указываются размеры на чертеже? По каким правилам изображаются выносные и размерные линии? Размер стрелки? Где пишутся размерные числа, какие знаки встречаются перед размерными числами? Интервалы между размерными линиями? Начертить пример.
4. Как обозначаются масштабы?
5. Обозначение метрической резьбы?

2

1. Что называется форматом? Размеры основных форматов и их обозначение по ГОСТ 2.301 – 68?
2. Что такое проецирование?
3. Какой разрез называется сложным? Виды сложных разрезов, их обозначение?
4. Обозначение метрической резьбы?
5. Размеры шрифта?

3

1. Какие тела называются многогранниками? Привести примеры (нарисовать)
2. Что называется аксонометрической проекцией? Нарисовать пример.
3. Правила изображения резьбы? Начертить.
4. Знак секущей плоскости?

5. Знаки обозначения диаметра окружности, радиуса дуги, квадратной поверхности, толщины детали? 4

1. Какова роль чертежа в сфере профессиональной деятельности техника? (Показать на примере своей будущей профессии).
2. Стандарты ЕСКД. Что называется стандартом, как обозначаются государственные стандарты системы ЕСКД, влияние стандарта на качество чертежа?

3. Перечислить виды изделий и конструкторских документов?
4. Знаки обозначения уклона и конусности?
5. Обозначение сварного шва? 5

1. Какие тела называются телами вращения? Привести примеры (нарисовать)
2. Что называется техническим рисунком?
3. Что называется простым разрезом? Виды простых разрезов?
4. Обозначение шероховатости поверхности?
5. Обозначение паяного соединения?

6

1. Что называется масштабом? Виды масштабов по ГОСТ 2.302 – 68?
2. Какие типы линий применяют на чертеже, их размерность по ГОСТ 2.303 – 68? Привести примеры (нарисовать)
3. В чем сходство и различие эскиза и рабочего чертежа детали? Последовательность выполнения эскиза?
4. Обозначение выносного элемента?
5. Как указывают на чертежах предельные отклонения линейных размеров?

7

1. Что называется сопряжением? Виды сопряжений.
2. Что называется простым разрезом? Виды простых разрезов?
3. Что называется сборочным чертежом? Условности и упрощения на сборочных чертежах?
4. Обозначение на чертежах наименования и марки материала?
5. Какой знак применяют, если изображение повернуто?

8

1. В чем заключается сущность метода прямоугольных проекций?
2. Какие размеры шрифта применяют на чертежах при выполнении надписей? Что называется шрифтом? Чем определяется размер шрифта?
3. Что называется сечением? Виды сечений, их обозначение?
4. Обозначение клееного соединения?
5. Знаки обозначения диаметра окружности, радиуса дуги, квадратной поверхности, толщины детали? 9

9

1. Что такое координатный угол?
2. В каких единицах указываются размеры на чертеже? По каким правилам изображаются выносные и размерные линии? Размер стрелки? Где пишутся размерные числа, какие знаки встречаются перед размерными числами? Интервалы между размерными линиями? Привести примеры (нарисовать)

3. Что называется выносным элементом? Обозначение выносных элементов на чертеже?
4. Обозначение вида?
5. Обозначение форматов?

10

1. Какие тела называются телами вращения? Привести примеры (нарисовать)
2. Что называется простым разрезом? Виды простых разрезов?
3. Что называется видом? Перечислить основные виды, изобразить схему расположения основных видов на чертеже.
4. Обозначение разрезов и сечений?
5. Обозначение направления взгляда наблюдателя?

11

1. Что называется детализированием?

2. Что называется схемой? Какие условные графические обозначения установлены для схем (по специальности)?
3. Что определяет координата точки?
4. Обозначение метрической резьбы?
5. Знаки обозначения диаметра окружности, радиуса дуги, квадратной поверхности, толщины детали.

12

1. Изображение и обозначение наружной и внутренней резьбы. Виды резьб?
2. Что называется форматом? Размеры основных форматов и их обозначение по ГОСТ 2.301 – 68?
3. Что такое проецирование?
4. Обозначение на чертежах наименования и марки материала?
5. Обозначение плоскостей проекций в проекционном черчении?

13

1. Стандартные крепежные изделия. Их условные обозначения. Привести примеры.
2. Что называется масштабом? Виды масштабов по ГОСТ 2.302 – 68?
3. Какие типы линий применяют на чертеже, их размерность по ГОСТ 2.303 – 68?
4. Обозначение шероховатости поверхности?
5. Размеры шрифта?

14

1. Разъемные и неразъемные соединения деталей. Привести примеры (нарисовать)
2. Что такое чертеж?
3. Что называется уклоном и конусностью? Знаки условного обозначения уклона и конусности?
4. Как обозначаются масштабы?
5. Как указывают на чертежах предельные отклонения линейных размеров?

15

1. Что называется местным и дополнительным видами? Их обозначение.
2. Какова роль чертежа в сфере профессиональной деятельности техника? (Показать на примере своей будущей профессии).
3. Что называется форматом? Размеры основных форматов и их обозначение по ГОСТ 2.301 – 68?
4. Обозначение сварного шва?
5. Размеры шрифта?

16

1. Какой разрез называется сложным? Виды сложных разрезов, их обозначение?
2. Что называется сборочным чертежом? Условности и упрощения на сборочных чертежах?
3. В чем заключается сущность метода прямоугольных проекций?
4. Обозначение метрической резьбы?
5. Какой знак применяют, если изображение развернуто?